


幼小衔接数学练习题一千道

一、请帮小朋友数一数，（口里面的图形各有几个）（10分）



有（ ）个



有（ ）个



有（ ）个



有（ ）个



有（ ）个

二、看数字涂颜色。（18分）



2



3



4



5



6



8

三、填数（20分）

3



1 □

5



□ □

4



□ 3

4



□ 2

□	□	3	7
Λ	Λ	Λ	Λ
3	5	2	2
		□	2
			□
			□

四、看图列算计式：(12 分)

$$\triangle \triangle \triangle \triangle - \triangle \triangle = \triangle \triangle$$

$$(\quad) - (\quad) = (\quad)$$

$$\circ \circ + \circ \circ = \circ \circ \circ \circ$$

$$(\quad) + (\quad) = (\quad)$$

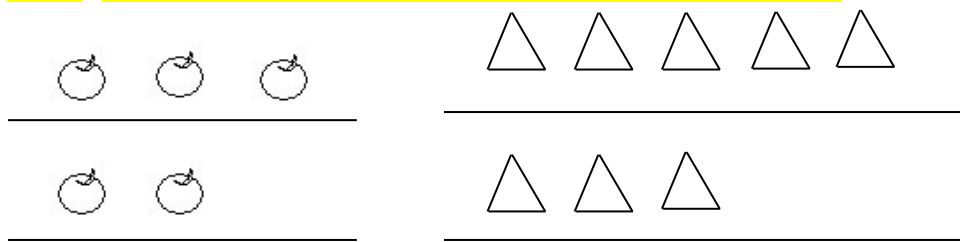
$$\circ \circ \circ - \circ = \circ \circ$$

$$(\quad) - (\quad) = (\quad)$$

$$\triangle \triangle \triangle \triangle \triangle - \triangle \triangle \triangle = \triangle \triangle$$

$$(\quad) - (\quad) = (\quad)$$

五、看图添画，使上排和下排一样多。(6 分)



八、写出所学的单双数 (7 分)

1、单数

2、双数

六、给数字排队：(10 分)

10		8		6		4			1
	2	3		5	6			9	

一、口算。(23 分) $4+2=$ $9-4=$ $6+4=$ $13+4=$ $8-3=$

$7+10=$ $15-3=$ $16-2=$ $5+5=$ $10-5=$

$5+4=$ $13+0=$ $3-3=$ $3+4=$ $7-3=$

$6-3-2=$ $4+5-3=$ $9-4+5=$ $8+1-6=$ $5+3-2=$

$5+2-3=$ $10-5+4=$ $3+5+1=$

二、连线。(10 分)

$5+3$	7	$6-3$	5
$3+2$	9	$5-3$	6
$1+6$	8	$5-5$	3
$0+9$	4	$9-4$	2
$2+2$	5	$10-4$	0

三、在括号内填上“+”或“-”号。(18 分)

$8 () 2=10$ $9 () 5=4$ $10 () 10=0$

$5 () 2=7$ $6 () 3=9$ $7 () 0=7$

$8 () 5=3$ $6 () 3=3$ $3 () 7=10$

四、在括号内填上合适的数。(20 分)

$6+ () =9$ $9- () =4$ $() +2=7$ $() -8=0$

$() -3=7$ $7+ () =9$ $7+ () =10$

$9- () =3$ $8- () =5$ $() +9=9$

五、在括号内填上“<”“>”或“=”号。(9 分)

$3+2 () 5-3$ $8-3 () 5-2$ $5+4 () 3+2$

$6+3 () 5+4$ $9-7 () 8-6$ $0+9 () 9$

5-5 () 2 7-2 () 9 5+3 () 9

六、按规律填数。(5分)

1 () 5 () () 11

() 5 () 7 () 9

20 () () () () 15

七、应用题。(1、2、3题各3分，4题6分，共15分)


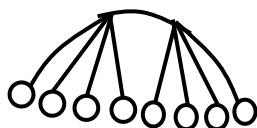
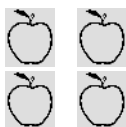
1、河里有6只鸭子，又游来5只，河里共有多少只鸭子？

2、草地上3只小鸡在做游戏，来了2只小鸡后，后来又来了3只小鸡，现在共有多少小鸡在做游戏？

3、小红有10个本子，用了5个本子做作业，小红还剩下多少个本子？

4、树上有2只小鸟，又飞来5只，不久有4只小鸟飞到草地上觅食去了，树上还有几只鸟？

五、数一数.涂一涂。




○ ○ ○ ○ ○ ○
六、给从左数的第三棵树上画5个苹果；第四棵树上画两朵花。

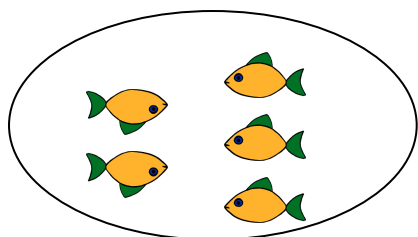
○ ○ ○ ○ ○ ○

○ ○ ○ ○ ○ ○

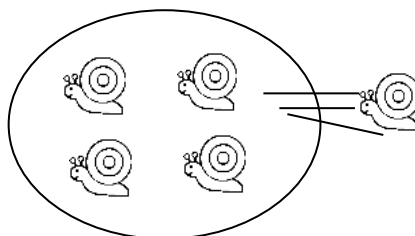
○ ○ ○ ○ ○ ○
○ ○ ○ ○ ○ ○



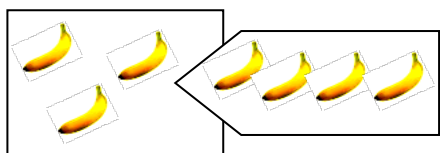
七、看图列算式。



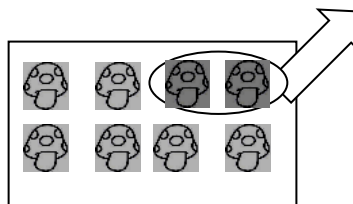
()




()



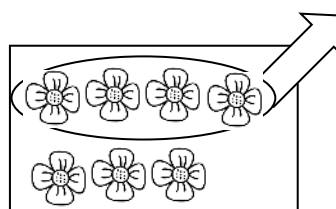
()




()



()



()



()

一、

九、五、 八、七、 字：

23() 70()

四十() 一百()

99() 13()

二、计算下列各题:

$2+7=$

$8+2=$

$10+7=$

$6+5=$

$8-2=$

$10-5=$

$3+4-5=$

$10-6+3=$

$7-1+8=$

$9-0-9=$

三、计算填空:

$() - 10 = 8$

$12 - () = 6$

$() + 3 = 17$

$12 + () = 16$

$() - 2 = 15$

$17 - () = 3$

$() + 13 = 25$

$7 + () = 25$

$() - 8 = 6$

$12 - () = 7$

$() + 6 = 33$

$25 + () = 37$

$() - 2 = 7$

$14 - () = 2$

$() + 16 = 18$

$5 + () = 19$

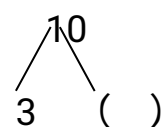
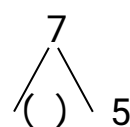
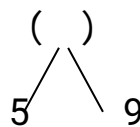
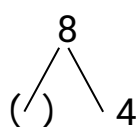
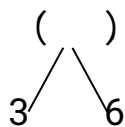
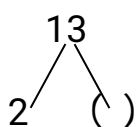
$() - 3 = 9$

$11 - () = 1$

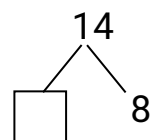
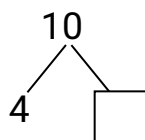
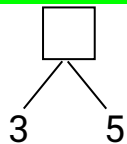
$() + 4 = 22$

$14 + () = 27$

四、把下列分合式填写完整:



五、数的分解与组合填空、列算式:



$3+5= ()$

$4+ () = 10$

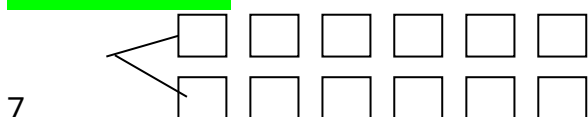
$() + 8 = 14$

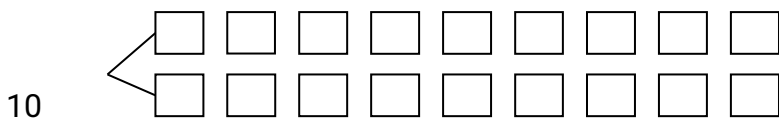
$() + () = () \quad () + () = () \quad () + () = ()$

$() - () = () \quad () - () = () \quad () - () = ()$





$() - () = () \quad () - () = () \quad () - () = ()$

六、数的分解:





七、接着画下去并填空：

8	 
8	
8	

$$4 + (4) = 8$$

$$2 + () = 8$$

$$6 + () = 8$$

八、填写相邻数：

5、()、7 ()、12、13 76、77、() ()、24、25
()、60、() 32、()、() ()、()、55

九、在□里填上“>”“<”“=”：

$$5 + 1 \square 12$$

$$10 - 5 \square 5$$

$$10 \square 6 + 4$$

$$2 + 5 \square 14$$

$$13 - 3 \square 6$$

$$18 \square 7 + 5$$

$$4 + 3 \square 13$$

$$16 - 4 \square 20$$

$$8 - 8 \square 7 + 2$$

十、给下列数字排序：

① 9 13 5 32 21 19 46 3

() < () < () < () < () < () < ()

() > () > () > () > () > () > ()

② 25 11 57 8 14 27 7 32

() < () < () < () < () < () < ()

() > () > () > () > () > () > ()

十一、把算式排一排队：

① 8+7 14-2 13+5 5+6 19-3

() > () > () > () > ()

② 25-7 11+6 9-3 24-12 2+7 34+13

() < () < () < () < () < ()

十二、按规律填数：

9			6			3		
---	--	--	---	--	--	---	--	--

11				15			18		
----	--	--	--	----	--	--	----	--	--

1		5	7			13		15
---	--	---	---	--	--	----	--	----

	10	15	20				40	45	
--	----	----	----	--	--	--	----	----	--

十三、凑 10 法计算：

$$\begin{array}{c} 8 + 7 = \\ \begin{array}{c} | \quad \diagup \quad \diagdown \\ \square \quad \square \\ | \quad | \\ \square \end{array} \end{array}$$

$$\begin{array}{c} 6 + 5 = \\ \begin{array}{c} | \quad \diagup \quad \diagdown \\ \square \quad \square \\ | \quad | \\ \square \end{array} \end{array}$$

$$\begin{array}{c} 7 + 5 = \\ \begin{array}{c} | \quad \diagup \quad \diagdown \\ \square \quad \square \\ | \quad | \\ \square \end{array} \end{array}$$

$$\begin{array}{c} 9 + 6 = \\ \begin{array}{c} | \quad \diagup \quad \diagdown \\ \square \quad \square \\ | \quad | \\ \square \end{array} \end{array}$$

十四、列竖式计算（无进退位）：

$$12 + 35 =$$

$$65 + 34 =$$

$$57 + 21 =$$

$$43 + 56 =$$

$$56 - 32 =$$

$$73 - 21 =$$

$$49 - 29 =$$

$$99 - 60 =$$

十五、列竖式计算（有进退位）：

$$16 + 35 =$$

$$65 + 27 =$$

$$57 + 18 =$$

$$43 + 39 =$$

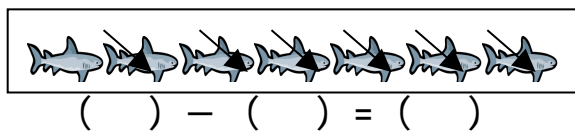

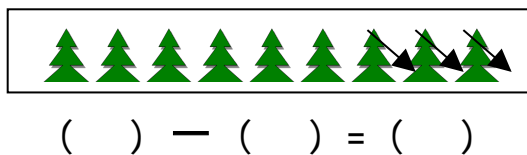

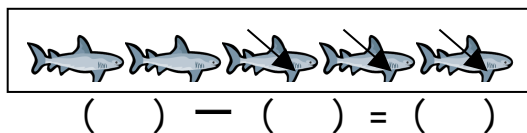
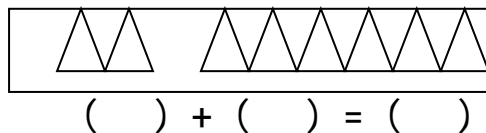
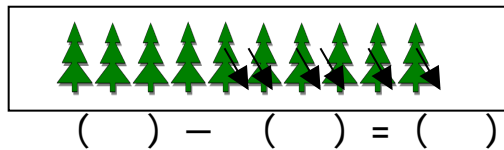
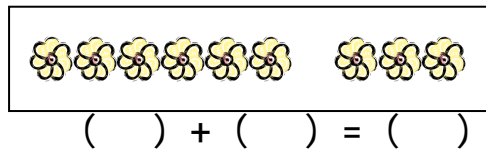

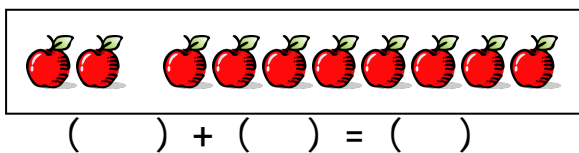
$$56 - 37 =$$

$$73 - 28 =$$

$$45 - 29 =$$

$$91 - 64 =$$

十六、看图列式：



十七、先画线再填得数：

$5-3=()$

$5-1=()$

$5-4=()$



十八、看图写出两道加法算式，两道减法算式：



$\square + \square =$

$\square + \square =$



$\square - \square =$

$\square - \square =$

十九、小小填空学问大，请你仔细填一填：

(1) 80 比 () 多 1，比 () 少。

(2) 和 99 相邻的两个数是 () 和 ()。

(3) 比 36 大比 40 小的数是 ()

(4) 在 5、9、7、0、13、15 这六个数中 () 最大，() 最小，比 9

小的数有 (), 在 14 和 16 中间的数是 ()。

(5) 比 19 少 1 的数是 (), 比 18 多 1 的数是 ()。

(6) 比一比在最多后面画“√”, 在最少的后面画“☆”


○ ○ ○ ○ ○ ○ ()

□ □ □ □ □ □ □ □ ()

△ △ △ △ △ ()

问: □ 比 △ 多 () 个, △ 比 ○ 少 () 个

二十、花园中有 7 朵红色的小花, 8 朵黄色的小花, 一共有多少朵小花?




$$7 + 8 = \square$$

$$\square + 8 =$$

$$7 + \square =$$

二十一、应用题:

1 小光有 5 个 , 大飞有 4 个 , 小光和大飞共有几个  ?
列式为: () = 个

答: 小光和大飞共有 个 .

2、公共汽车上原有乘客 20 人, 到火车站又上来 8 人, 到新华书店下去 5 人, 现在汽车上有多少人?

答: 现在汽车上有 人。

3、河里有 6 只鸭子, 又游来 5 只, 河里共有多少只鸭子?

4、草地上 3 只小鸡在做游戏, 来了 2 只小鸡后, 后来又来了 3 只小鸡, 现在共有多少小鸡在做游戏?

5、小红有 10 个本子, 用了 5 个本子做作业, 小红还剩下多少个本子?

6、树上有 12 只小鸟, 又飞来 5 只, 不久有 4 只小鸟飞到草地上觅食去了, 树上还有几只鸟?

一、直接写答案。(20分)

$$\begin{array}{ccccc} 8+9= & 10+8= & 11+8= & 15+3= & 10+10= \\ 20-8= & 19-14= & 15-9= & 20-8= & 17-15= \end{array}$$

二、填空。(6分)

- 1、67 当中有 () 个十, () 个一。
- 2、8 个十和九个一组成 ()。
- 3、45 当中有 () 个十, () 个一。
- 4、比 5 大 3 的数字是 ()。

三、在括号内填上“+”“-”。(12分)

$$\begin{array}{ccc} 18 () 8=10 & 12 () 4=16 & 20 () 9=11 \\ 11 () 8=19 & 9 () 11=20 & 16 () 4=12 \end{array}$$

四、在括号内填上“<”“>”“=”。(12分)

$$\begin{array}{ccc} 19+1 () 20 & 19-4 () 13 & 10 () 11-2 \\ 18-2 () 17 & 12-2 () 14 & 19-9 () 15 \end{array}$$

五、连线找朋友。(16分)

11+9	6	11+7	10
20-14	18	20-10	18
19-8	20	8+9	1
12+6	11	19-18	17

六、连加连减。(12分)

$11 + 4 - 5 =$

$20 - 8 - 10 =$

$19 - 14 - 3 =$

$20 - 11 + 3 =$

$8 + 9 - 11 =$

$16 - 6 + 10 =$

七、列竖式计算。(12分)

$20 - 8 =$

$12 + 8 =$

$19 - 9 =$

$16 + 12 =$

八、应用题。(10分)

- 1、树上有 13 只小鸟，又飞来了 6 只，现在树上一共有多少只小鸟？
- 2、花园里有 18 只蝴蝶，飞走了 8 只，现在花园里还剩多少只蝴蝶？
- 3、老师有 20 朵大红花，送给齐齐 11 朵，老师还剩多少朵红花？

一、写 1—100 的数字

二、填写下列各数的相邻数

___5___

___13___

___9___

___11___

___16___

三、填写数的组成及加减法。

7

6

9

八

八

八

5 ()

4 ()

6 ()

2 ()

2 ()

3 ()

四、口算 10 以内加减法。

$1+2=$ $9-1=$ $9+2=$ $6+4=$ $12+3=$ $3+1=$

$8-3=$ $8+4=$ $12-7=$ $7+1=$ $15+1=$

$4+2=$

$6-2=$ $5+5=$ $10-5=$ $5+4=$ $13+2=$ $3+0=$

$3-3=$ $3+1=$ $8-3=$ $1+2=$ $9-1=$ $9+2=$

一、写数字（从 1 写到 100）：

二、算数（10 以内）：

$$5+4=$$

$$8+2=$$

$$7+3=$$

$$6+4=$$

$$5+5=$$

$$2+6=$$

$$7+1=$$

$$4+5=$$

$$5+3=$$

$$2+7=$$

$$9+1=$$

$$6+3=$$

$$2+6=$$

$$7+3=$$

$$4+8=$$

$$2+5=$$

$$8+3=$$

$$2+9=$$

$$4+7=$$

$$4+9=$$

$$5+6=$$

$$3+9=$$

$$5+7=$$

$$3+8=$$

$$7+4=$$

$$7+8=$$

$$4+8=$$

$$3+9=$$

$$7+5=$$

$$8+8=$$

$$4+9=$$

$$6+9=$$

二、算数（20 以内）：

$$9+11=$$

$$7+12=$$

$$11+7=$$

$$13+6=$$

$$12+5=$$

$$12+6=$$

$$17+2=$$

$$15+5=$$

$$13+2=$$

$$15+3=$$

$$12+6=$$

$$14+6=$$

$$12+6=$$

$$14+5=$$

$$12+7=$$

$$13+4=$$

$$18+3=$$

$$12+9=$$

$$14+7=$$

$$14+3=$$

$$15+6=$$

13+9= 15+7= 13+8= 17+4=

17+8= 14+8= 13+9= 17+5= 18+8= 14+9= 16+9= 三、分解

10 9

8

7

6

5

一、我会算。(8 分)

15- 8= 17- 9= 90-40= 16-7=

80+15= 76+20= 32+6 = 64+30=

二、比一比大小，在○里填上“>”“<”或者“=”。(12 分)。

例子：20-8 ○ 10 15-6 ○ 10 10-5 = 5

15-6 ○ 8 9+7 ○ 10 18-9 ○ 13

8+8 ○ 14 16-7 ○ 11 9+5 ○ 14

三、我会照样子子连线。(22 分，每线 2 分)

10-5+2		10		6+3-2	3
9-6+1		5		8-1+2	5

$2+7-4$

8

$7-2+3$

4

$7-6+2$

4

$6+4-5$

9

$9-4+5$

3

$5+3-4$

8

$4+6-2$

7

$9-7+1$

7

四、把下列数从大到小排队。(12分，每空2分)

3、8、10、7、13、17、1、20

(20)>()>()>()>()>()>()>(1)

五、我会填。(16分)

(1) 我会算。(8分)

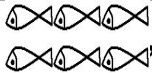



11	$\begin{array}{c} \diagup \\ \diagdown \\ \diagup \\ \diagdown \\ \diagup \\ \diagdown \end{array} - 8 =$	()	12	$\begin{array}{c} \diagup \\ \diagdown \\ \diagup \\ \diagdown \\ \diagup \\ \diagdown \end{array} - 7 =$	()
13		()	14		()
15		()	16		()
17		()	18		()

(2) 我会照样子填。(8分)

$35 + 3 = \square$	$44 + 30 = \square$
$\begin{array}{c} \diagup \quad \diagdown \\ \square \quad \square \\ \diagdown \quad \diagup \\ \square \quad \square \\ \diagdown \quad \diagup \\ \square \quad \square \\ \diagdown \quad \diagup \\ \square \quad \square \end{array}$	$\begin{array}{c} \diagup \quad \diagdown \\ \square \quad \square \\ \diagdown \quad \diagup \\ \square \quad \square \\ \diagdown \quad \diagup \\ \square \quad \square \\ \diagdown \quad \diagup \\ \square \quad \square \end{array}$

六、我会填月份。(12分，每空2分)

我的生日在每年的第四周 ____月	这个月我最高兴，因为小朋友的节日到了。 ____月	九月后面的一个月是 ____月
我们暑假从这个月开始 ____月	暑假过后，要开学了，秋天就到了 ____月	一年的最后一个月是 ____月

2、有 6 条小鱼 ，游走 2 条 ，又游来 3 条 ，
现有多条 ()  ?

() - () + () = () 条

一、计算。(30 分)

$6+2=$ $3+7=$ $18-3=$ $19-2=$ $8-2=$ $5-5=$

$8-8=$ $9-4=$ $18-2=$ $0+10=$ $7+7=$ $4+5=$

$18+2=$ $5+6=$ $7+3=$ $16+3=$

二、在 ○ 填上 > < 或 =。(10 分)

$4 \bigcirc 4$ $4 \bigcirc 3$ $3 \bigcirc 4$ $10 \bigcirc 0$

$9 \bigcirc 2$ $8 \bigcirc 9$ $2 \bigcirc 7$ $7 \bigcirc 8$

三、在-----线上填上多几或少几 (10 分)

○ ○ ○ ○ ☆ ☆ ☆
△ △ △ ○ ○ ○ ○

○ 比 △ _____ 。 ☆ 比 ○ _____ 。

四、填空。(10+10+10 分)

①

10		8		6			3		1	
----	--	---	--	---	--	--	---	--	---	--

1			4			7		9		
---	--	--	---	--	--	---	--	---	--	--

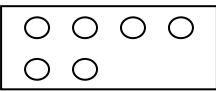

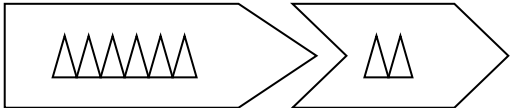
②

$\begin{array}{c} 10 \\ \swarrow \quad \searrow \\ \square \quad \square \end{array}$	$\begin{array}{c} 6 \\ \swarrow \quad \searrow \\ 4 \quad \square \end{array}$	$\begin{array}{c} 8 \\ \swarrow \quad \searrow \\ 3 \quad \square \end{array}$	$\begin{array}{c} 9 \\ \swarrow \quad \searrow \\ 3 \quad \square \end{array}$
---	--	--	--

③ $\triangle \triangle \triangle \triangle$ $\square \square \square \square$ $\odot \odot \odot \odot \odot \odot$ $\star \star \star \star \star \star \star \star$ ()

() () ()

五、看图列式。(10分)

		
$\square \quad \bigoplus \quad \square = \square$	$\square \quad \bigoplus \quad \square = \square$	
$\square \quad \bigominus \quad \square = \square$	$\square \quad \bigominus \quad \square = \square$	

六、连线 (10)

6-1 8	1+8 8
3+5 5	6-3 5
2+2 7	1+7 9
9-2 4	10-5 3

一、直接写得数 (17)

14+5=	19-6=	0+10=	5+13=	10-8=	19-5=
6+13=	18-5=	3+17=	19-2=	6+14=	9-5+4=
19-7=	8-3+5=	13+4=	17-4=	19-9+10=	

二、填空 (28)

1、与 10 相邻的两个数分别是（ ）和（ ）。

2、比 9 小比 6 大的数有（ ）。

3、9 个 1 是（ ） 2 个 4 是（ ） 5 个 3 是（ ）

4、比 8 少 2 的数是（ ） 比 5 大 3 的数是（ ）

5、把下面的算式按要求填在括号内。

$$4+2= \quad 9-5= \quad 2+7= \quad 6+3= \quad 9-7= \quad 8+1=$$

得数相同的有（ ）。

得数小于 5 的有（ ）

三、看下面的数按要求填空（10）

0 4 8 6 5 3 9 10 7

从左数第 5 个数是（ ），从右数第 6 个数是（ ），一共有（ ）个数，中间的一个数是（ ） 第 8 个数是（ ）。

四、在括号内填上“+”或“-”号（12）

$$8 \text{ () } 2=10 \quad 9 \text{ () } 5=4 \quad 10 \text{ () } 10=0$$

$$6 \text{ () } 3=9 \quad 7 \text{ () } 0=7 \quad 8 \text{ () } 5=3$$

五、在括号内填上合适的数 (12)

$6 + () = 9 \quad 9 - () = 4 \quad () + 2 = 7$

$7 + () = 10 \quad 9 - () = 3 \quad 8 - () = 5$

六：在括号内填上“ < ” “ > ” 或 “ = ” 号 (12)

$3 + 2 () 5 - 3 \quad 8 - 3 () 5 - 2 \quad 6 + 3 () 5 + 4$

$5 - 5 () 2 \quad 0 + 9 () 9 \quad 5 + 3 () 9$

一、 从 1 写到 20。

--	--	--	--	--	--	--	--	--	--	--	--	--	--	--	--	--	--	--	--

二、按顺序填数

$() 5 () 7 () () () () 12$

$() 13 () 11 () () () () 6 5$

三、口算

$11 + 2 = \quad 19 - 11 = \quad 16 + 4 = \quad 3 + 11 = \quad 18 - 3 =$

$17 + 1 = \quad 15 - 3 = \quad 16 - 2 = \quad 15 + 5 = \quad 10 - 5 =$

$5 + 14 = \quad 3 + 10 = \quad 13 - 3 = \quad 3 + 14 = \quad 17 - 3 =$

$13 - 2 = \quad 15 + 3 = \quad 11 - 9 = \quad 9 + 6 = \quad 7 + 6 =$

$6 - 3 - 2 = \quad 4 + 5 - 3 = \quad 9 - 4 + 5 = \quad 6 + 3 - 5 =$

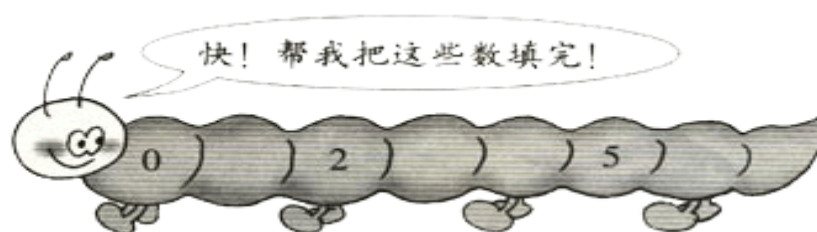
$10 + 7 - 3 = \quad 15 - 9 + 7 = \quad 11 - 2 + 3 = \quad 7 + 6 - 8 =$

一、 按顺序填数。

	9			6		4			1
--	---	--	--	---	--	---	--	--	---

		3		5					10
--	--	---	--	---	--	--	--	--	----

二、



三、数一数，并写在下面的方框里。

★★★

● ● ● ●

◎ ◎ ◎ ◎ ◎ ◎

□ □ □ □ □ □ □



▲ ▲ ▲ ▲ ▲



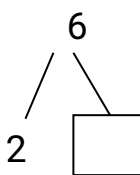
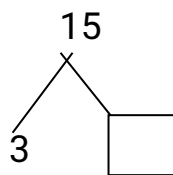
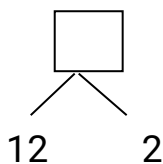
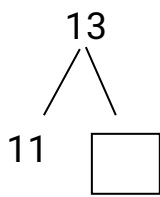
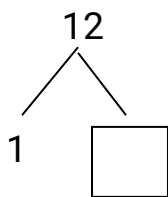
四、在 () 里填上合适的数。

$$4 + () = 17 \quad 5 + 15 = () \quad 6 + () = 20$$

$$0 + () = 14 \quad 17 - () = 2 \quad 15 - () = 5$$

$$16 - () = 10 \quad 3 + 11 = () \quad 5 + () = 19$$

五、填空。



六、计算。

$$10 - 0 = \quad 4 + 13 = \quad 14 + 4 = \quad 15 - 1 = \quad 11 + 3 = \quad 5 + 12 = \quad 8 + 10 = \quad 5 + 11 =$$

$$11 + 6 = \quad 13 + 2 = \quad 14 + 3 = \quad 10 + 5 = \quad 2 + 16 = \quad 15 - 2 =$$

七、连线。

$$2 + 6$$

9

$$9 - 6$$

7

$$3 + 7$$

7

$$8 - 8$$

3

$$6 + 3$$

8

$$8 - 6$$

0

$$4 + 3$$

10

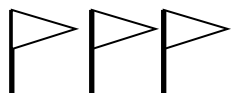
$$10 - 3$$

2

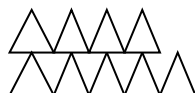
1、 看图写数。



()



()



()



()



()

2、 填数。

1	2		4		6		8		
---	---	--	---	--	---	--	---	--	--

10	9		7		5		3		1
----	---	--	---	--	---	--	---	--	---

3、 在○ 里填上“>”、“<”或“=”。

2○ 1 6○ 5 5○ 5 7○ 9 3○ 2 9○ 6

8○ 9 6○ 6 4○ 5 3○ 4 7○ 6 5○ 9

4、 计算。

$15-3=$ $19-8=$ $18-1=$ $16-4=$ $19-5=$ $18-6=$

$15-7=$ $13-1=$ $19-4=$ $18-2=$ $18-6=$ $19-7=$

$17-6=$ $9-2=$ $17-1=$ $19-6=$ $17-5=$ $18-4=$

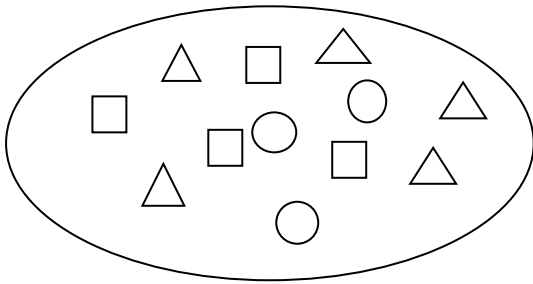
$19-3=$ $16-4=$ $17-3=$ $4+14=$ $14+2=$ $18+2=$

$15+4=$ $7+13=$ $8+11=$ $9+18=$ $6+4=$ $15+5=$

$9+41=$ $13+6=$ $15+2=$ $4+13=$ $17+8=$ $3+15=$

$5+11=$ $3+13=$ $19+9=$ $7+16=$ $6+16=$ $19+7=$

数一数，填一填



△ 有 () 个
○ 有 () 个
□ 有 () 个
一共有 () 个

一、按规律填空

- ① $2 \rightarrow () \rightarrow 4 \rightarrow 5 \rightarrow ()$
 ② $3 \rightarrow () \rightarrow 5 \rightarrow () \rightarrow 7$
 ③ $5 \rightarrow 6 \rightarrow () \rightarrow 8 \rightarrow ()$
 ④ $6 \rightarrow 7 \rightarrow () \rightarrow 9 \rightarrow ()$

二、画一画

- ① 8 个 ○ 形 _____
 ② 3 个 △ 形 _____
 ③ 5 个 □ 形 _____

三、连一连

$5 + 5$

$6 + 3$

$7 + 2$

$4 + 4$

10
 $2 + 8$

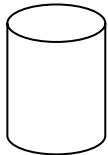
$9 + 1$

$6 + 4$

$3 + 5$

五、比较

- ① 比较高矮，在较高的旁边的 () 里打“✓”




()



()

- ② 比较大小，在小的旁边的 () 里打“✓”




()




()

③ 比较粗细，在粗的旁边的 () 里打“√”



④ 比较长短，在长线的旁边的 () 里打“√”



四、看图填空

① $\triangle \triangle \triangle \triangle \triangle \triangle \triangle$
 $7 - () = ()$

② $\bigcirc \bigcirc \bigcirc \bigcirc \bigcirc \bigcirc$
 $3 + 3 = ()$

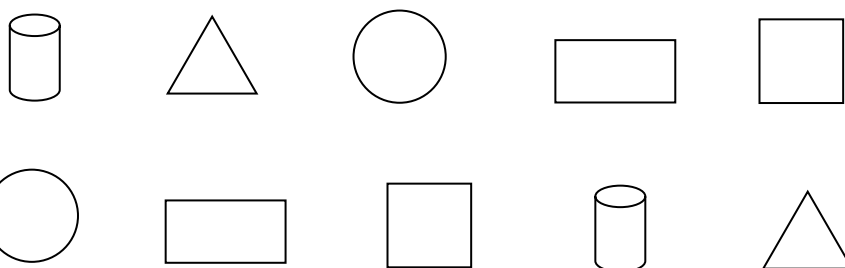
③ $\triangle \triangle \triangle \triangle \triangle \triangle \triangle \triangle \triangle$
 $9 - () = ()$

④ $\bigcirc \bigcirc \bigcirc \bigcirc \bigcirc \bigcirc \bigcirc \bigcirc$
 $5 + 5 = ()$

⑤ $\triangle \triangle \triangle \triangle \triangle \triangle \triangle \triangle \triangle \triangle$
 $10 - () = ()$

⑥ $\bigcirc \bigcirc \bigcirc \bigcirc \bigcirc \bigcirc \bigcirc \bigcirc \bigcirc$
 $8 + 2 = ()$

一、找朋友 (10 分)



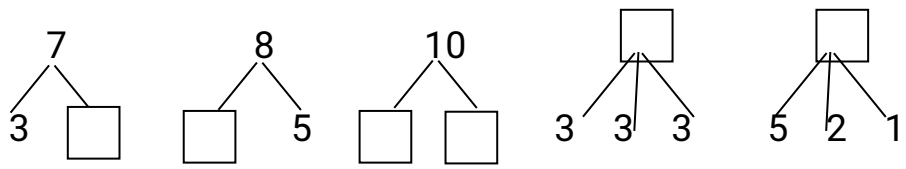
二、计算 (36 分)

$12 + 5 =$ $3 + 17 =$ $4 + 13 =$ $6 + 11 =$ $12 + 8 =$

$17 - 3 =$ $10 - 2 =$ $14 - 10 =$ $18 - 8 =$ $19 - 2 =$

$13 - 10 + 5 =$ $14 - 4 + 8 =$ $5 + 10 - 4 =$ $10 + 4 - 5 =$

三、填空 (34 分)



$5+7=(\quad)$ $4+7=(\quad)$ $6+8=(\quad)$

$(\quad)+(\quad)=(\quad)$ $(\quad)+(\quad)=(\quad)$ $(\quad)+(\quad)=(\quad)$

$(\quad)-(\quad)=(\quad)$ $(\quad)-(\quad)=(\quad)$ $(\quad)-(\quad)=(\quad)$

$(\quad)-(\quad)=(\quad)$ $(\quad)-(\quad)=(\quad)$ $(\quad)-(\quad)=(\quad)$

一、填写 (每空 1 分, 共 25 分)

- 1、 ○ ○ ○ ○ ○ ○ ○ ○ ○ ○ ○
 ○ ○ ○ ○ ○ ○ ○ ○ ○ ○ ○ ○
 () () () ()

2			5			8			11
---	--	--	---	--	--	---	--	--	----

20			17			14			11
----	--	--	----	--	--	----	--	--	----

- 2、15 比 16 少 (), 17 比 15 多 ()
 3、14 相邻的两个数是 () 和 ()。
 4、18 有 () 个十和 () 个一组成。
 5、1 个十和 9 个一是 ()。
 6、比 15 多 2 的数是 (), 比 17 少 2 的数是 ()。

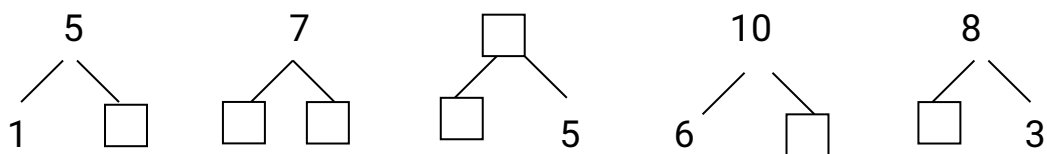
二、计算 (每题 1 分, 共 15 分)

$16-8=$ $15-5=$ $18-9=$ $19-12=$
 $7+2+7=$ $6+2+6=$ $5+7+3=$ $8+6+4=$
 $17-5-5=$ $18-6-6=$ $19-7-5=$
 $18-7-5=$ $8+7-9=$ $19-6+2=$ $9+6-7=$

一、看谁算得又对又快 (每题各 1 分, 共 15 分)

$56-44=$ $10-9=$ $5+5=$ $5+2=$ $9-4=$
 $18+41=$ $4+6=$ $2+7=$ $9-5=$ $3+3=$
 $17-5+1=$ $6-3+4=$ $9-7+2=$ $3+7-9=$ $3-2+8=$

二、在方格里填上合适的数(每空各 1 分，共 7 分)



数学试卷（十一）

一、看图填空（1、2 题每空 1 分，共 20 分）

1、横行、竖行上的三个数相加各得多少？

	3				
2	5	7	()		
	4				
	()				

1	6	3	()
4	2	2	()
2	1	5	()
()	()	()	

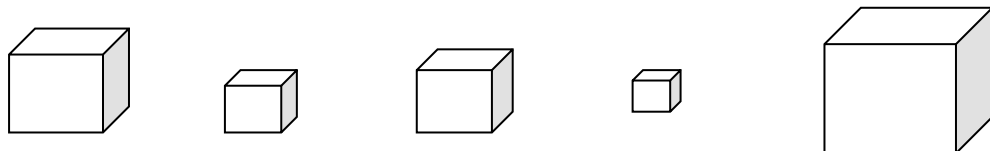
2、按顺序填空

() - 5 - () - 3 - () () - 6 - () - () - 9 - ()
 15 - () - () - 30 () - 55 - 60 - () - 70 - ()

二、在○里填上“+”或“-”（每空 1 分，共 12 分）

6 () 1 = 5 4 () 2 = 6 10 () 5 = 15
 6 () 2 = 4 3 () 3 = 6 10 () 3 = 13
 6 () 5 = 1 5 () 2 = 3 56 () 4 = 52
 6 () 3 = 3 3 () 3 = 0 32 () 8 = 40

三、把下列图形按从小到大排列（每空 1 分，共 5 分）



() () () () ()

四、看图列式（每题 1.5 分，共 3 分）

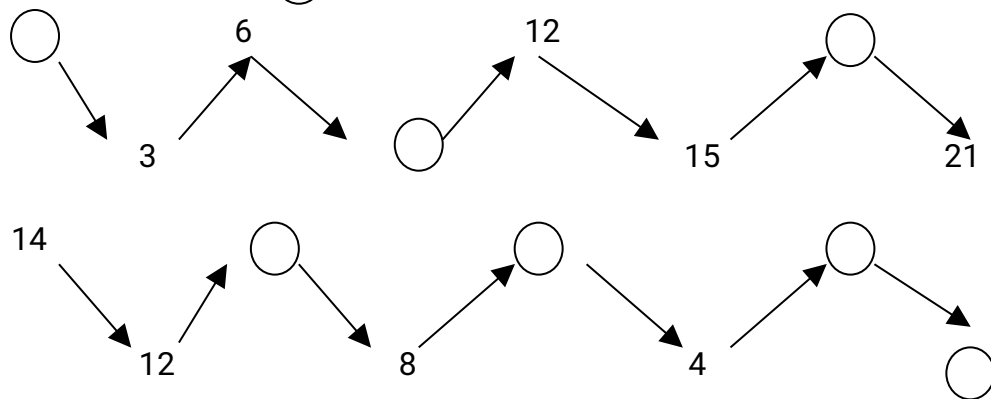
1、 

$$\square \circ \square = \square$$

2、  

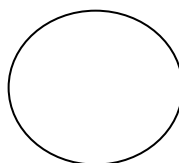
$$\square \circ \square \circ \square = \square$$

一、想一想，在 ○ 里填数。(12 分)



二、把下列各图形按要求分成几等分，并涂上颜色。(8 分)

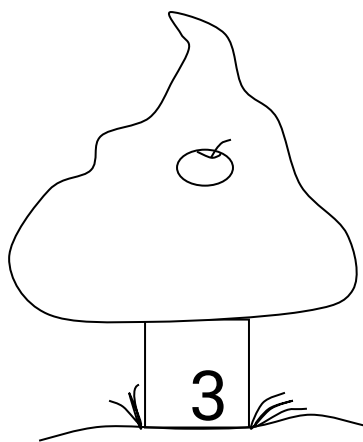

① 只涂二分之一





② 只涂四分之一



三、请按书上缺少的数字，把树上缺少的苹果画在树上，并在空格里填上相应的数字。(16 分)





四、计算：(24 分)

$12+3=$

$2+14=$

$16-4=$

$18-5=$

12

2

16

18

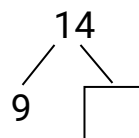
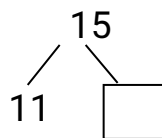
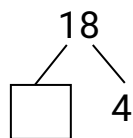
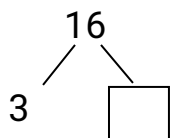
+ 3

+ 14

- 4

- 5

五、填方框 (8 分)



一、口算

$15-9=$

$15+4=$

$10-2=$

$18-4=$

$20-6=$

$12-6=$

$9+11=$

$10+15=$

$8+17=$

$20-10=$

$14-2=$

$7+6=$

$10+10=$

$18-8=$

$14+8=$

$9+5=$

$8+9=$

$12-9=$

$17-9=$

$7+9=$

二、把下列各数按从小到大的顺序排列

10 0 15 100 50 40 20 80 60 90

三、在 () 里填上 > < =

15 () 12 6+3 () 9 11-2 () 13 9+8 () 16

四、连线

9+3	18	15-7	12-6
9+6	12	6+8	4+4
9+7	15	16-9	7+7
9+9	16	13-7	14-7

一、 我会填

1、 1 2 3 4 () 6 () () () 10

2、 2 4 () 8 10

3、 () () 6 () 2

4、 填上“<”“>”“=”

2+5 ○ 3+4 2+3 ○ 2+4 6-1 ○ 8-2

9-4 ○ 3+1 6+3 ○ 10-2 8-5 ○ 8-7

5、 +4=15 2+ =17 16- =3

11+ =17 -4=6 -3=16

6、 1+12+5= 2+13+1= 6+3+10=

10-5-4= 9-0-7= 8-2-4=

7、 10 9 8 () () () 4 3 2

一、 计算。 (20 分)

8+12= 14+5= 17-3= 7+12= 10+13= 19-7=

13+5= 12-3= 19-5= 19-6= 20-7= 16-5=

15-9= 17-4= 14-8= 12+13= 4+6= 17-5=

9+6= 10+10=

二、给下面的分合式填空。（20分）

15	17	18	19	20	18	15
八	八	八	八	八	八	八
11()	15()	()5	13()	7()	()12	()2

三、连线。（10分）

9+3	10	15-5	9
10+6	12	9+0	6
9+1	5	7+1	3
4+5	16	10-7	10
8-3	9	6-0	8

四、填写下列各数的相邻数。（12分）

___5___	___8___	___9___
___10___	___6___	___7___

五、在括号内填上“<”“>”或“=”号。（10分）

8○5	3○6	9○9	6○0	5○7
10○8+2	4○4	2○3	9○4+2	7○1

六、连加连减计算。（10分）

3+5+1=	8-7+6=	2+5+3=	9-4-5=
8+2-5=	10-5-3=	5+4-7=	8+0-8=
3+7+0=	9-3+2=		

七、填写数的组成及加减法。（18分）

7	6	9
八	八	八
5 ()	4 ()	6 ()
2 ()	2 ()	3 ()
()+()=()	()+()=()	()+()=()
()+()=()	()+()=()	()+()=()
()-()=()	()-()=()	()-()=()

$$(\quad) - (\quad) = (\quad) \quad (\quad) - (\quad) = (\quad) \quad (\quad) - (\quad) = (\quad)$$

一、口算

$$11+2= \quad 9-1= \quad 6+14= \quad 3+11= \quad 18-3= \quad 7+11=$$

$$15-3= \quad 16-2= \quad 15+5= \quad 10-5= \quad 5+14= \quad 3+10=$$

$$13-3= \quad 13+4= \quad 17-3= \quad 6-3-2= \quad 4+5-3=$$

$$9-4+5= \quad 8+1-6= \quad 5+3-2= \quad 5+2-3= \quad 10-5+4=$$

二、连线

5+3	7	6-3	5
3+2	9	5-3	6
1+6	8	5-5	3
0+9	4	9-4	2
2+2	5	10-4	0

三、在括号内填上“+”或“-”号

$$8(\quad)2=10 \quad 9(\quad)5=4 \quad 10(\quad)10=0$$

$$5(\quad)2=7 \quad 6(\quad)3=9 \quad 7(\quad)0=7$$

$$8(\quad)5=3 \quad 6(\quad)3=3 \quad 3(\quad)7=10$$

四、在括号内填上合适的数

$$6+(\quad)=19 \quad 19-(\quad)=4 \quad (\quad)+2=17 \quad (\quad)-8=10$$

$$(\quad)-3=17 \quad 7+(\quad)=19 \quad 7+(\quad)=20$$

$$19-(\quad)=3 \quad 18-(\quad)=5 \quad (\quad)+9=9$$

五、在括号内填上“<”“>”或“=”号

$3+2$ () $5-3$ $8-3$ () $5-2$ $5+4$ () $3+2$

$6+3$ () $5+4$ $9-7$ () $8-6$ $0+9$ () 9

$5-5$ () 2 $7-2$ () 9 $5+3$ () 9

六、按顺序填数

() 5 () 7 () () () () 12

一、口算

$18-2=$ $5+15=$ $3+11=$ $16+1=$ $7+13=$

$16-2=$ $17-4=$ $16-8=$ $19-7=$ $20-9=$

$5+13=$ $15+2=$ $19-4=$ $8+11=$ $18-3=$

$14+6=$ $2+17=$ $19-5=$ $13+3=$ $14-2=$

$10-1=$ $11+2=$ $15-3=$ $12+8=$ $10-8=$

$12+4=$ $16-5=$ $4+14=$ $15-9=$ $11+9=$

$18-4=$ $6+14=$ $10-3=$ $6+15=$ $20-5=$

六、在括号内填上“+”或“-”号


8 () $2=10$ 9 () $5=4$ 5 () $2=7$ 6 () $3=9$

8 () $5=3$ 6 () $3=3$ 3 () $7=10$ 8 () $4=4$

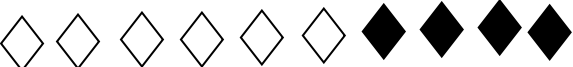
5 () $5=10$ 5 () $2=3$

七、看图列算式：


1、

2、

3、

4、

一、数一数，圈一圈。



1、如果每 5 只小鸡为一组，共有（ ）组。

2、如果每 10 只小鸡为一组，共有（ ）组。

3、圈出 30 只小鸡。

二、在“○”里填上“<”、“>”或“=”。

20○ 31 40○ 35 29○ 29 50○ 26 35○ 46

45○ 30 34○ 34 39○ 40 42○ 27

一、计算我最棒。（每题 2 分，共 30 分）

$2+11=$

$13-2=$

$14-3=$

$13+1=$

$4+12=$

$20-10=$

$14+3=$

$8+11=$

$16+4=$

$15-3=$

$14-4=$

$12-1=$

$5+15=$

$2+12=$

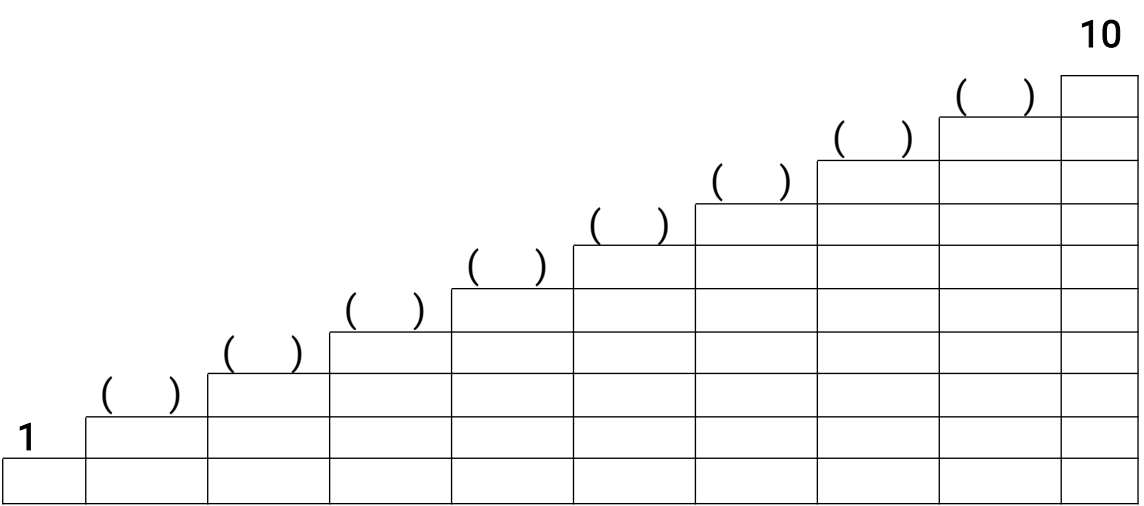
$7+11=$

二、在○里填上“>”、“<”或“=”（每空 3 分，共 30 分）

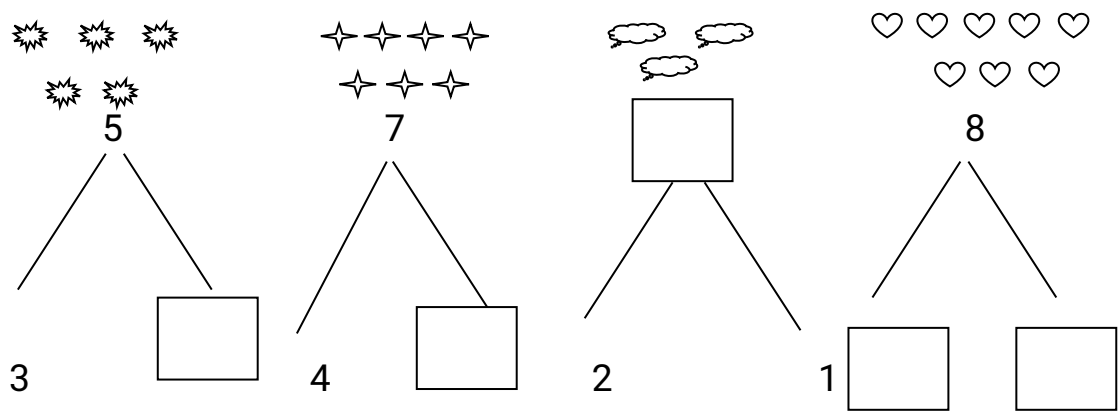
3 ○ 2 6 ○ 8 7 ○ 7 3 ○ 5 8 ○ 7

9 ○ 10 9 ○ 9 4 ○ 5 7 ○ 4 3 ○ 3

三、看谁先夺到红旗。(每空 2 分，共 16 分)



四、看图在方框里填了适当的数。(24 分)



一、填空 (每空 1 分，共 22 分):

1、按数的顺序填数:

1		3			6			9	
---	--	---	--	--	---	--	--	---	--

2、按倒数的顺序填数:

10									
----	--	--	--	--	--	--	--	--	--

3、填写相邻数:

	4		6		8		9			2	
--	---	--	---	--	---	--	---	--	--	---	--

二、写出单数和双数 (每空 1 分，共 10 分):

10 以 内 { 1、单数：() () () () ()
2、双数：() () () () ()

三、在○里填上“>”“<”“=”“+”“-” (12分):

$$\begin{array}{cccc} 3 \bigcirc 2 & 5 \bigcirc 7 & 10 \bigcirc 9 & 5 \bigcirc 6 \\ 1 \bigcirc 2 & 8 \bigcirc 7 & 2 \bigcirc 4 & 5 \bigcirc 5 \\ 3 \bigcirc 2=1 & 5 \bigcirc 2=7 & 6 \bigcirc 3=3 & 2 \bigcirc 2=4 \end{array}$$

四、填 () (16分):

$$\begin{array}{ccccc} 10 & 9 & () & 7 & () \\ 2 & () & 6 & () & 10 \\ () & () & 5 & 3 & 2 \end{array}$$

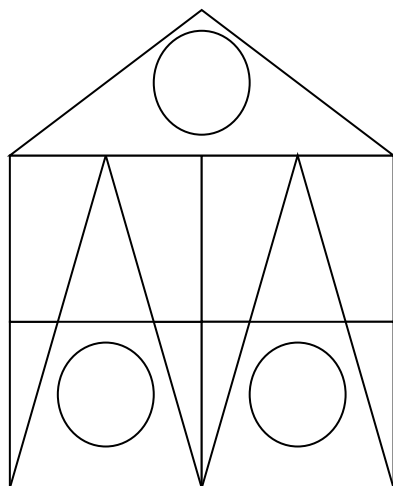
五、计算 (16分):

$$\begin{array}{cccc} 13+2=() & 16-6=() & 4+14=() & 19-5=() \\ 10-3=() & 8+12=() & 16-3=() & 12+2=() \\ 6+()=18 & ()+2=14 & 15-()=3 & 17-()=5 \\ 7-()=1 & 10-()=0 & ()-7=12 & ()-13=3 \end{array}$$

六、连加连减 (12分);

$$\begin{array}{ccc} 17-3-4=() & 8-4+12=() & 5+13-1=() \\ 10-2+2=() & 3+13+3=() & 12+2-2=() \end{array}$$

七、数图形填空（6分）：

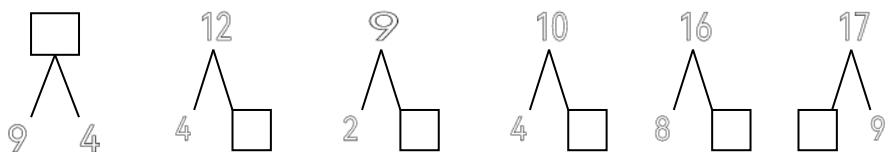


三角形（ ）个 正方形（ ）个 圆形（ ）个

15-7= 9+3+5= 9+9= 7+5= 6+9= 14+5-7=

10+5= 17-9+2= 14-9= 4+4+7= 19-9= 6+8=

一、 我会填（12分）



三、我会比大小（24分）

14 ○ 20 15 ○ 17 13 ○ 10 4+7 ○ 12

4 ○ 15 12 ○ 20 9 ○ 19 7+3 ○ 5+5

四、我会帮这些数找邻居（12分）

___9___ ___13___ ___14___
___11___ ___7___ ___19___

五、看图填空（10分）



□ ○ □ = □

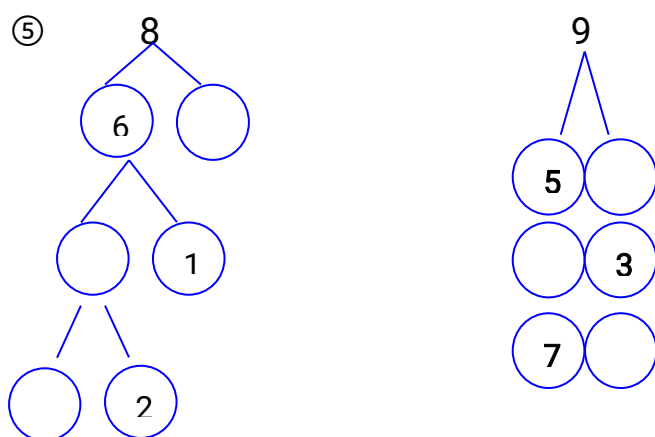
一、小朋友，在括号里添上相应的数字吧。

① 80 79 78 77 76 () () 73 () () () 69 () ()

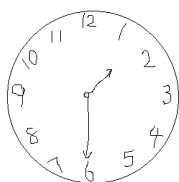
② 2 4 6 () 10 12 () () 18 20 22 () () 28 30

③ 4个100、2个10、9个1合起来的数是()

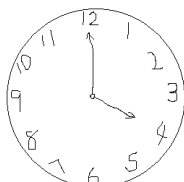
④ 3267里有()个1000、()个100、()个10、()个1



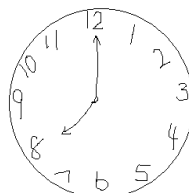
⑥ 标出下图时钟的时间 (6分)



()



()



()

二、 计算题：22分

() - 14 = 6 19 - () = 3 3 + () = 18 () + 2 = 17

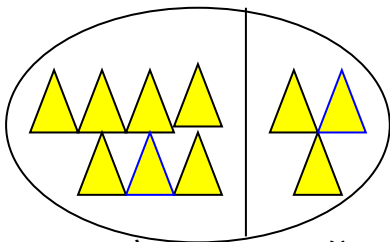
3 + 4 + 2 + 1 = 5 + 1 - 3 - 2 = 9 - 5 + 2 - 4 =

3 + () = 18 5 + () = 10 19 - () = 4 () - 3 = 17 () - 2 = 18

4 + 15 = 16 + 3 = 9 + 11 = 17 - 12 = 18 - 11 =

19 - 14 = 18 - 12 = 14 - 11 = 12 + 16 = 13 + 15 =

三、 看图列式并计算：8分




四、 应用题：12 分


- a) 树上有 9 只小鸟，飞走了 4 只小鸟，问：树上还有多少只小鸟？
- b) 草地上有 6 只小兔在采蘑菇，又来了 3 只小兔采蘑菇，问：草地上有几只小兔在采蘑菇？
- c) 妈妈买了 8 个苹果回家，妈妈吃了 1 个，孩子吃了 2 个，问：还有几个苹果没吃？



五、 写出得数是 3 的式子（不少于 5 个） 20 分

一、给最大的动物画“√”，最小的画“×”（10分）



二、看图写数字。（8分）





()

()

三、在○里填上“>”、“<”或“=” (8分)

$1 \bigcirc 2$

$5 \bigcirc 4$

$8 \bigcirc 10$

$7 \bigcirc 9$

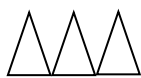
$3 \bigcirc 4$

$5 \bigcirc 5$

$9 \bigcirc 10$

$6 \bigcirc 4$

四、看图写算式 (16分)



$\square + \square = \square$



$\square - \square = \square$

五、在空格里填上正确的序数。(12分)

1				5
---	--	--	--	---

	11			14
--	----	--	--	----

3			6	
---	--	--	---	--

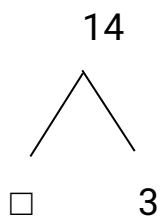
		8		10
--	--	---	--	----

六、写出下列数的相邻数。(8分)

	6	
--	---	--

	2	
--	---	--


七、写一写，数的组成。(8分)



八、计算。(20分)

$$\begin{array}{cccc}
 2+12= & 17-2= & 13+2= & 2+11-2= \\
 16+3= & 14-7= & 15-9= & 4-3+11= \\
 5+12= & 13+4= & 16-7= & 3+11-4=
 \end{array}$$

九、看数字添画或划掉。(5分)



十、写出 1-20 的数。(5分)

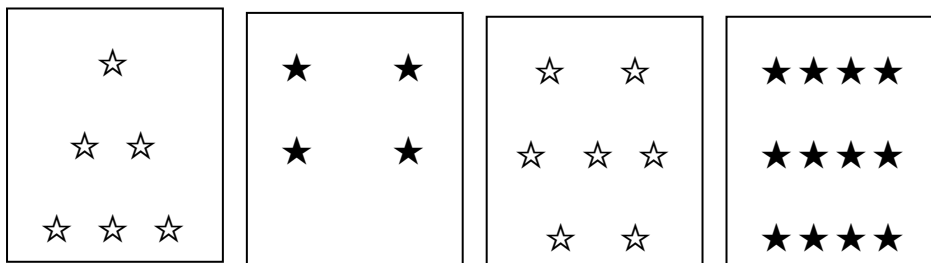
一、请给数字宝宝们从小到大排队 (10分)

12 17 14 16 20 18 11 13 19 15

--	--	--	--	--	--	--	--	--	--

二、从 71 写到 100 (30分)

三、我最棒。我能在括号里填出正确的数字 (8分)



() 个 () 个 () 个 () 个

四、我能计算 (20分)

$9+6=$ $12+5=$ $8+7=$ $3+9=$ $4+10=$

$12-6=$ $10-3=$ $20-10=$ $17-4=$ $16-6=$

五、我还会连加连减呢 (16 分)

$4+2+5=$

$5+7+3=$

$10-5-2=$

$14-10-4=$

六、我可以在○里填“>”、“<”或“=” (16 分)

$12 \bigcirc 15$

$11 \bigcirc 22$

$9 \bigcirc 6$

$8 \bigcirc 7$


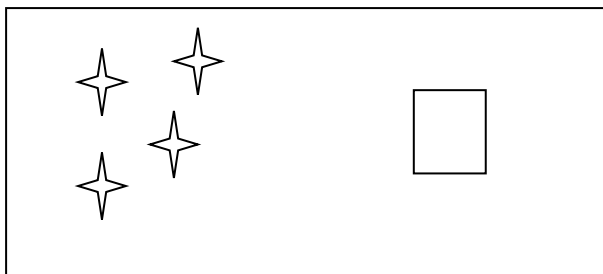
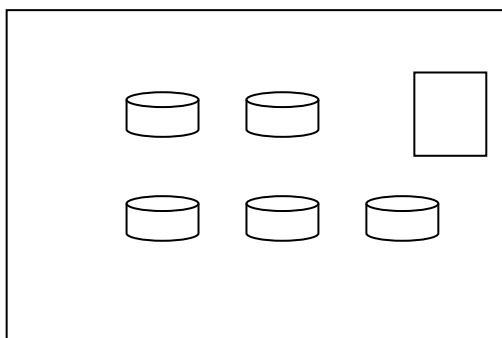
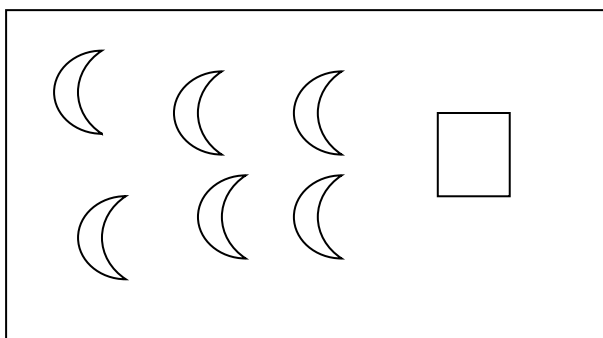
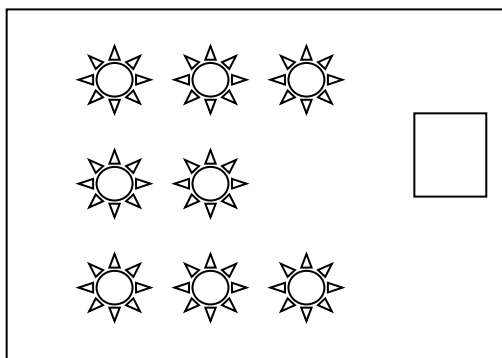

$4+3 \bigcirc 9-2$

$15-10 \bigcirc 7$

$8-3 \bigcirc 4$

$6-1 \bigcirc 4+2$

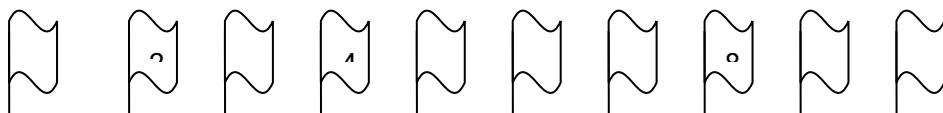
一、看图填数 (12 分)



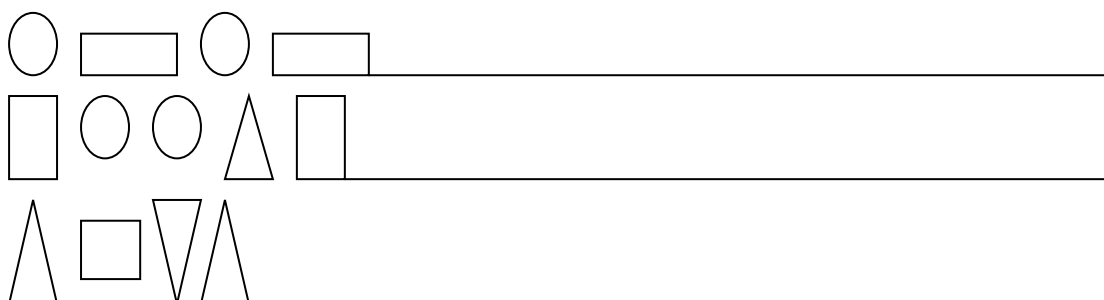
二、在 填上适当的数。(10 分)

0			3					8		1
2				6			2		4	
	4			3			7			6

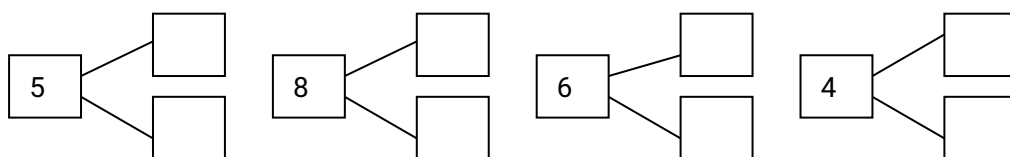
三、请从左到右替它们编上号（10分）



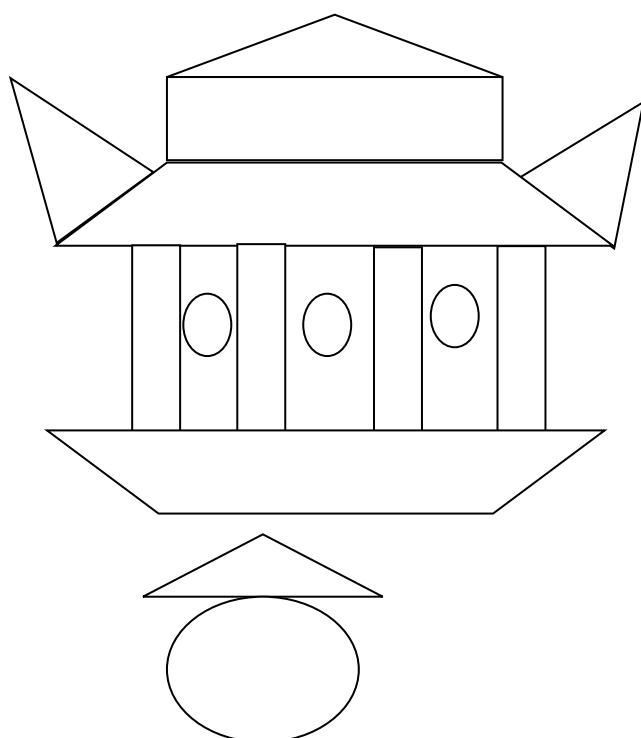
四、找规律画图（5分）



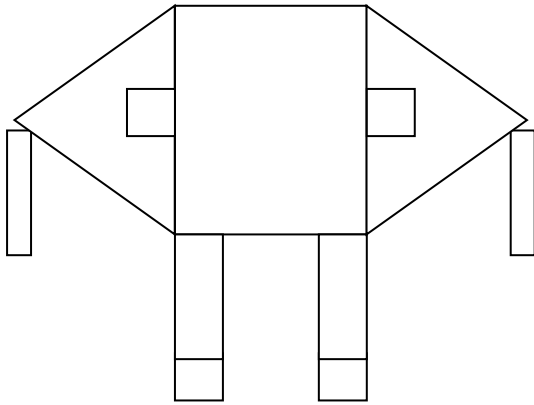
五、在 里填上适当的数（12分）



六、数一数，填一填（8分）



- 有 () 个
- 有 () 个
- 有 () 个
- 有 () 个



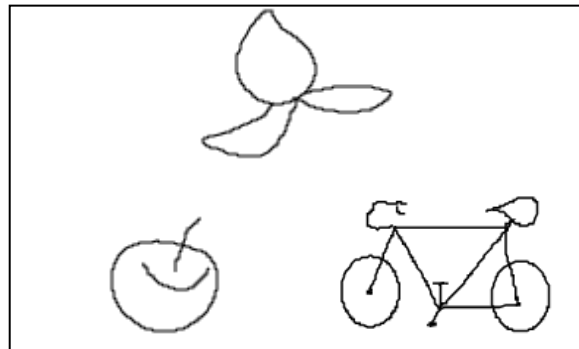

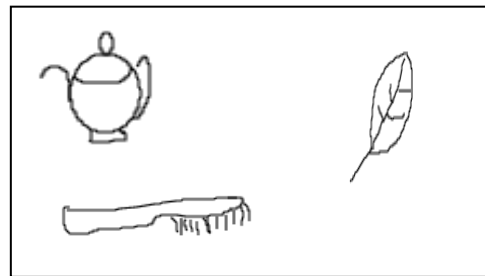

△有（ ）个

○有（ ）个

□有（ ）个

□有（ ）个


七、找出不同的东西并圈出来（12）



八、读数字并画图（6）

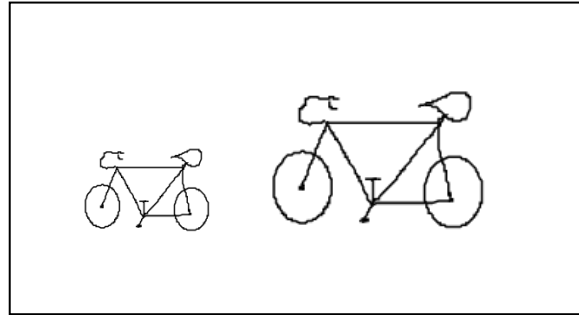

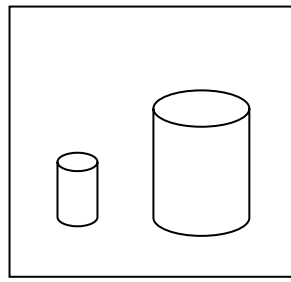
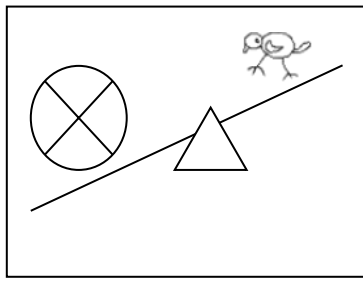
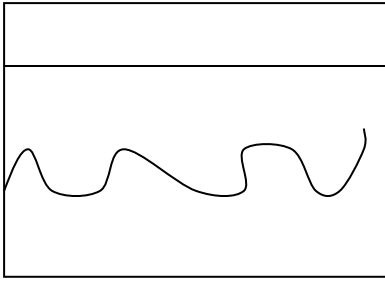


4



6

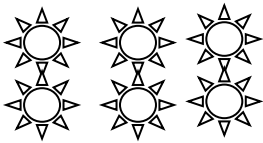
九、把大的、高的、重的、长的、粗的圈出来（5分）



十、连线，把相应的数字和数量连起来（20 分）



1



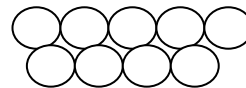
2




3



4



5



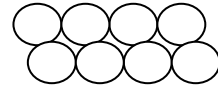
6




7



8



9



10



1、按规律填数（10 分。每空 1 分）

- ① 2、3、____、____、6、____。
- ② 9、8、____、____、5、____。
- ③ 1、3、____、____、9。
- ④ 0、2、4、____、____。

2、算一算，比一比结果，在○填上“>”、“<”或者“=”(40

分，其中计算每题 2 分，填符号每题 1 分)

$6-3=$	○	$2+2=$
$7+2=$	○	$5+4=$
$9-5=$	○	$2+3=$
$6+4=$	○	$9-8=$

3、照样用
“+”“-”
“=”连接
藏在数列
中的算式
并圈起来

$6+3=$	○	$7+0=$
$9-3=$	○	$4+2=$
$6-6=$	○	$8-7=$
$5+5=$	○	$4+4=$

(18 分)

2+4 = 6	1	2	3		
9	2	7	3	2	5
0	3	4	7	7	10
2	5	7	10	6	4

4、计算(32 分)

$4+13=$
 $8+12=$

5	4	$8 - 6 = 2$	0		
2	9	5	4	3	2
3	6	8	1	9	0
4	4	3	7	6	8

$$\begin{array}{llll}
 17+2= & 12+6= & & \\
 13+3= & 8+11= & 4+15= & 19-5= \\
 17-6= & 10-2= & 18-5= & 16-7= \\
 10+3= & 19-7= & 6+13= & 18-6=
 \end{array}$$

一、 分出单数、双数 1、 2、 3、 4、 5、 6、 7、 8、 9、 10

单数					
双数					

二、 在○内填上“>”“<”或“=”

$3+4 \bigcirc 5+1$

$8+2 \bigcirc 7+3$

$7+2 \bigcirc 6+4$

$5+2 \bigcirc 4+5$

三、 把算式相应的得数用线连起来

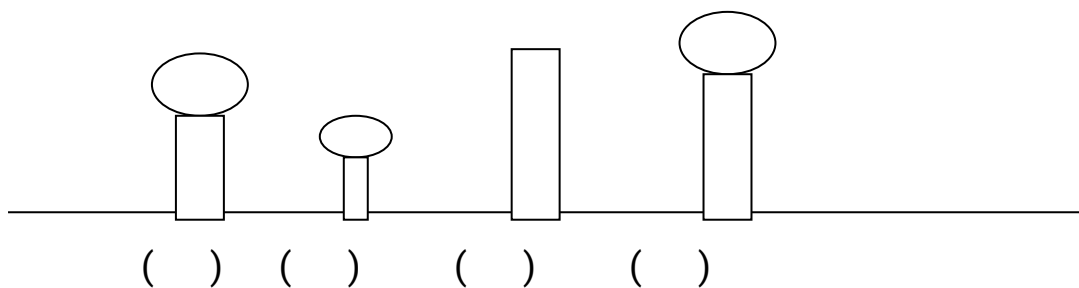
7-2-5
4+1+2
6+1+3

10
0
7

5+2+1
9-5-2
8-3+2

8
7
2

四、 按从高到矮的顺序用 1、 2、 3 排列



五、 填写相邻的数

1		3
---	--	---

	6	
--	---	--

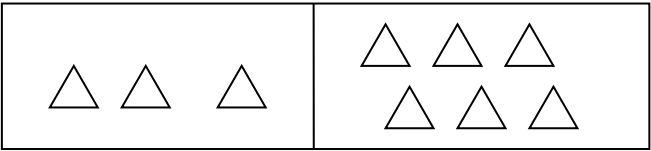
4		
---	--	--

	4	
--	---	--

7		
---	--	--

2		
---	--	--

六、看图列算式



() + () = ()

() + () = ()

() - () = ()

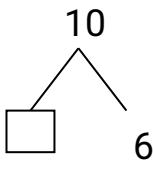
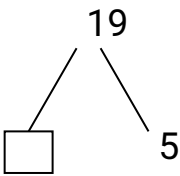
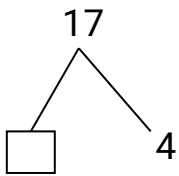
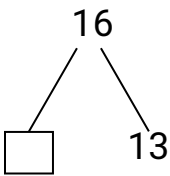
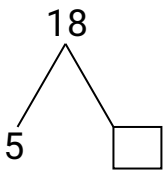
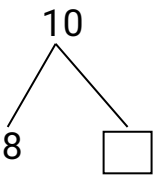
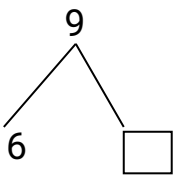
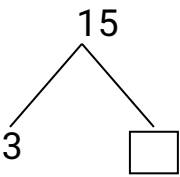
() - () = ()

七、填写 1—10 的顺序、倒序

1	2					7			10
---	---	--	--	--	--	---	--	--	----

10		8				4			1
----	--	---	--	--	--	---	--	--	---

八、填空



九、计算

6+13 =

10- 3 =

3+5+2=

18+2=

19- 6=

10- 3- 7=

一、 写出下面各数。（8 分）

十五() 十() 十三() 十九() 七() 二十()

18 前面的数是()，18 后面的数是()。

二、在()里填上合适的数（9 分）

$$() + 6 = 20 \quad () + 8 = 20 \quad 9 + () = 20$$

$$() + 14 = 21 \quad () + 5 = 21 \quad 8 + () = 21$$

$$() + 10 = 15 \quad 16 - () = 10 \quad 18 - () = 8$$

三、计算：（24 分）

$$80 + 2 + 4 = \quad 65 - 15 - 13 = \quad 19 + 81 - 59 = \quad 66 + 13 =$$

$$97 - 62 = \quad 100 - 33 - 5 = \quad 71 + 12 + 11 = \quad 87 - 29 =$$

四、在○里填上">"、"<"或"="。（8 分）

$$10 + 3 \bigcirc 14 \quad 19 - 10 \bigcirc 6 \quad 5 + 10 \bigcirc 11 \quad 14 + 4 \bigcirc 15$$

五、直接写得数（20）

$$4 + 15 = \quad 19 - 6 = \quad 10 + 10 = \quad 15 + 3 = \quad 10 - 8 = \quad 19 - 5 =$$

$$6 - 4 + 2 = \quad 6 + 13 = \quad 18 - 5 = \quad 13 + 7 = \quad 19 - 2 = \quad 16 + 4 =$$

$$9 - 5 + 4 = \quad 6 + 4 - 3 = \quad 3 + 2 + 4 = \quad 19 - 7 = \quad 8 - 3 + 5 = \quad 13 + 4 =$$

$$7 - 4 = \quad 9 - 9 + 10 =$$

六：填空（21）

1：与 10 相邻的两个数分别是（ ）和（ ）。

2：比 9 小比 6 大的数有（ ）。

3：把 4 个苹果放在两个盘中，共有（ ）种放法。

4：9 个 1 是（ ） 2 个 4 是（ ）


5：比 8 少 2 的数是（ ） 比 5 大 3 的数是（ ）


七：把下面的算式按要求填在括号内。


按顺序填数。(12 分)


20		18				14			11
		13		15			18		20


二、数一数，并写在下面的方框里。(8 分)




















三、 填空。(10 分)

19
 $\swarrow \quad \searrow$
 $11 \quad \square$

17
 $\swarrow \quad \searrow$
 $8 \quad \square$

$\swarrow \quad \searrow$
 $4 \quad 16$

20
 $\swarrow \quad \searrow$
 $9 \quad \square$

18
 $\swarrow \quad \searrow$
 $5 \quad \square$

四、连线。(8 分)

6+2	8	6-1	5
8+1	7	10-2	6
2+8	10	9-3	8
4+3	9	7-3	4

五、看图填空。(6分)

$$\star\star\star\star\star + \star\star\star = \square$$

$$\blacktriangle\blacktriangle\blacktriangle\blacktriangle\blacktriangle\blacktriangle\blacktriangle - \blacktriangle\blacktriangle = \square$$

$$\square + \square = \square$$

$$\square - \square = \square$$

六、我比较。(6分)

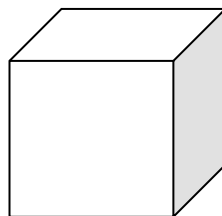
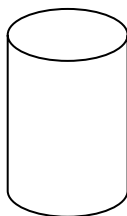

1.把高的圈起来。(1分)

2. 把轻的圈起来。(1分)



3. 把球体圈起来。(1分)

4. 把正方体圈起来。(1分)



5.把不是同一类的物体圈起来。(2分)



一、按顺序写出 1—20 的数。(10 分)

三、计算。(15 分)

$3+11=$ $12+2=$ $3+12=$ $11+4=$ $2+11+1=$

$15-2=$ $14-6=$ $5-1-0=$ $5-2-1=$ $3-1-1=$

四、照例连线。(20 分)

$3+2$	③	$2+3$	$5-4$	⑥	$3-2$
$1+1$	⑤	$6-4$	$2+4$	②	$4+2$
$4-3$	②	$4-3$	$1+1$	⑤	$4-2$
$3+3$	①	$2+4$	$2+3$	④	$2+3$
$2+2$	⑥	$3+1$	$6-2$	③	$2+2$
$1+2$	④	$5-2$	$4-1$	①	$1+2$

五、给正确答案后“√”，错误的“×”。(15 分)


$2+4=5()$ $2+1=3()$ $1+4=5()$

$3+1=4()$ $3-2=2()$ $2+3=5()$

$2+3=4()$ $4-1=3()$ $2-1=2()$

$1+4=5()$ $3+2=4()$ $3-2=2()$

六、看图写算式：(20 分)



$$() + () = \quad () + () = \quad () + () =$$

$$() + () = \quad () + () = \quad () - () =$$

$$() - () = \quad () - () =$$

$$() - () = \quad () - () =$$

一、给数字排队：(16 分)


10		8		6		4			1
----	--	---	--	---	--	---	--	--	---

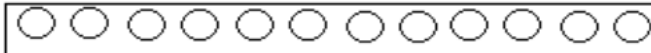
	2	3		5	6			9	
--	---	---	--	---	---	--	--	---	--


1, 3, 5_____


2, 4, 6 _____


二、添数游戏：(14 分)

12 → 

15 → 

7 → 

19 → 

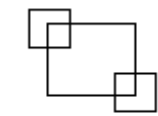
15 → 

7 →

○	○	○	○
---	---	---	---

19 → 

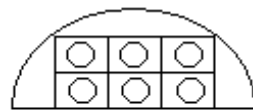
三、图形小游戏：(14 分)



□ ()



△ ()



○ ()

四、

比大小，在○里写

上“>”或“<”：(16 分)

$5 \bigcirc 7$

$8 \bigcirc 3$

$9 \bigcirc 6$

$7 \bigcirc 10$


$3 \bigcirc 9$

$13 \bigcirc 9$

$7 \bigcirc 18$

$6 \bigcirc 20$

五、看图写算式：(16 分)



$() + () = ()$

$() + () = ()$

$() + () = ()$

$() + () = ()$

$() - () = ()$

$() - () = ()$

$() - () = ()$

$() - () = ()$

六、计算：(24 分)

$6+12=$

$18+2=$

$7+13=$

$13+6=$

$15+4=$

$6+14=$

$19-2=$

$10-9=$

$16-2=$

$17-4=$

$18-3=$

$15-0=$

一、在括号里写上阿拉伯数字、文字：

九十五 () 六十七 () 四十 () 一百 ()

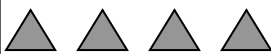



23 () 70 () 99 () 13 ()

二、计算下列各题：

$12+7=$ $18+2=$ $10+17=$ $6+5=$ $8-2=$

$10-5=$ $3+4-5=$ $10-6+3=$ $7-1+3=$ $9-0-9=$

三、接着画下去并填空：


8	 
8	
8	

$4 + (4) = 8$

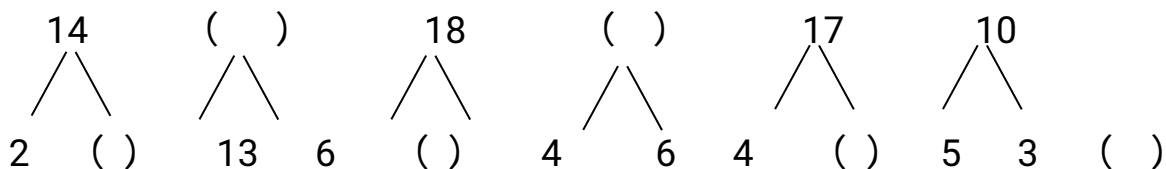
$2 + () = 8$

$6 + () = 8$

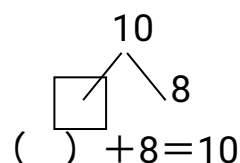
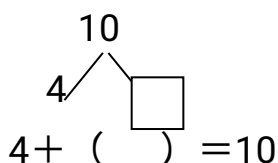
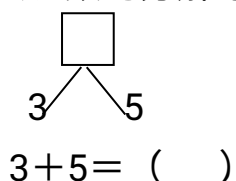
四、数的分解：



五、把下列分合式填写完整：




六、数的分解与组合填空、列算式：




() + () = () () + () = () () + () = ()
 () - () = () () - () = () () - () = ()
 () - () = () () - () = () () - () = ()

七、看图列式：



$$() + () = ()$$



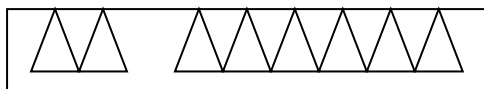
$$() + () = ()$$



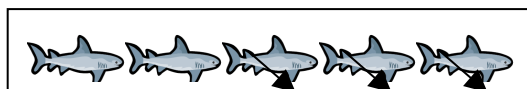
$$() + () = ()$$




$$() - () = ()$$



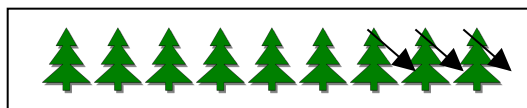
$$() + () = ()$$




$$() - () = ()$$




$$() - () = ()$$



$$() - () = ()$$



$$() - () = ()$$



$$() - () = ()$$

八、填写相邻数：

5、()、7 ()、12、13 76、77、() ()、24、25
 ()、60、() 32、()、() ()、()、55

九、给下列数字排序：

① 9 13 5 32 21 19 46 3
 () < () < () < () < () < () < () < ()
 () > () > () > () > () > () > () > ()

② 25 11 57 8 14 27 7 32
 () < () < () < () < () < () < () < ()
 () > () > () > () > () > () > () > ()

十、有关数的认识，填空：

1、() 个一是十。() 个十是一百。1 个百是()；

3 里有 () 个一，六个一是 ()，7 里有 () 个一；
10 里有 () 个十，两个十是 ()，70 里有 () 个十。

2、1 个十和 1 个一是 ()，5 个一和 9 个十是 ()；

32 里面有 () 个十和 () 个一，81 里面 () 个一和 () 个十。

3、29 添上 1 是 () 个十，是 ()。

29 添上 1 是 ()

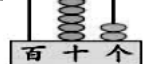
4、从右边数起，第 () 位是个位，第二位是 () 位，第三位是 () 位。

5、(1) 个位是 5，十位是 2 的数是 ()；

(2) 十位是 1，个位是 8 的数是 ()；

(3) 十位是 ()，个位是 () 的数是 37。

6、看计数器图写数



7、100 以内，个位是 6 的数有 ()；

100 以内，十位是 6 的数有 ()；

100 以内，个位和十位相同的数有 ()。

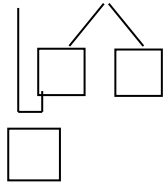
8、最小的一位数是 ()，最大的一位数是 ()；

最小的两位数是 ()，最大的两位数是 ()；

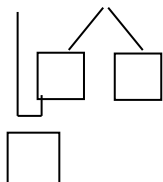
最小的三位数是 ()。

十一、用凑 (整) 10 法计算进退位加减法：

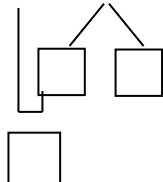
$$8 + 7 =$$



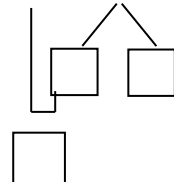
$$6 + 5 =$$



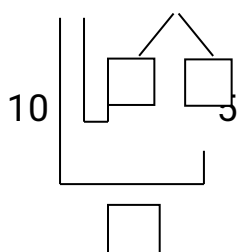
$$7 + 5 =$$



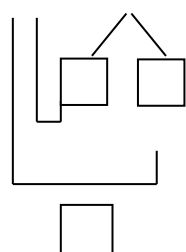
$$9 + 6 =$$



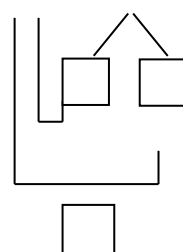
$$12 - 7 =$$



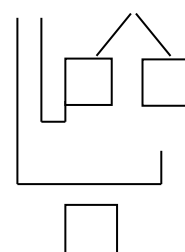
$$16 - 7 =$$



$$17 - 9 =$$



$$14 - 5 =$$



十二、找三个数出来列算术等式：

$$\begin{array}{lll} 3、9、8 & 7、6、15、8 & 18、4、5、13 \\ () + () = () & () + () = () & () + () = () \\ () + () = () & () + () = () & () + () = () \\ () - () = () & () - () = () & () - () = () \\ () - () = () & () - () = () & () - () = () \end{array}$$

十三、算一算：

$$36+5=() \quad 90-7=()$$

十四、计算填空：

$$\begin{array}{llll} 13+5=() & 18-6=() & 17+9=() & 22-9=() \\ ()-10=8 & 12-()=6 & ()+3=17 & 12+()=16 \\ ()-2=15 & 17-()=3 & ()+13=25 & 7+()=25 \\ ()+6=33 & 25+()=37 & ()-8=6 & 12-()=7 \\ 14-()=2 & ()-2=7 & 5+()=19 & ()+16=18 \\ 14+()=27 & ()+4=22 & 11-()=1 & ()-3=9 \end{array}$$

十五、在□里填上“>”“<”“=”：

$$\begin{array}{lll} 5+1 \square 12 & 10-5 \square 5 & 10 \square 6+4 \\ 2+5 \square 14 & 13-7 \square 6 & 18 \square 7+5 \\ 4+3 \square 13 & 16-4 \square 20 & 8-8 \square 7+2 \end{array}$$

十六、相等的算式

$$12-6=\left\{\begin{array}{l} \boxed{11}-\boxed{5} \\ \square-\square \\ \square-\square \end{array}\right. \quad 16-8=\left\{\begin{array}{l} \boxed{15}-\boxed{7} \\ \square-\square \\ \square-\square \end{array}\right.$$

$$\begin{array}{l} \text{也可以写成：} 12-6=()-()=()-() \\ 16-8=()-()=()-() \end{array}$$

十七、把算式排一排队：


$$\textcircled{1} \quad 8+7 \quad 14-2 \quad 13+5 \quad 5+6 \quad 19-3$$

() > () > () > () > ()

② 25-7 11+6 9-3 24-12 2+7 34+13

() < () < () < () < () < ()

十八、数数填填。



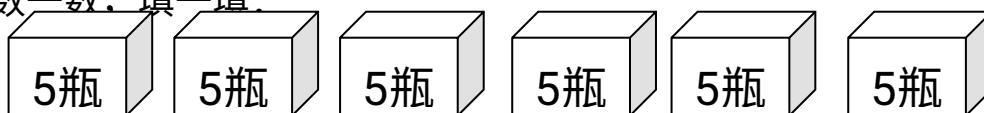
9			6			3		
---	--	--	---	--	--	---	--	--

11				15			18		
----	--	--	--	----	--	--	----	--	--

1		5	7			13		15
---	--	---	---	--	--	----	--	----

	10	15	20				40	45	
--	----	----	----	--	--	--	----	----	--

十九、数一数，填一填：



有一些牛奶，5 瓶 5 瓶的数有()个 5 瓶；

10 瓶 10 瓶数有 () 个 10 瓶；

一共有 () 瓶。

二十、列竖式计算（无进退位）：

12+35=

5+64=

57+21=

43+6=

$$\begin{array}{r} 12 \\ + 35 \\ \hline \end{array}$$

$56 - 32 =$

$73 - 21 =$

$49 - 9 =$

$99 - 60 =$

$$\begin{array}{r} 56 \\ - 32 \\ \hline \end{array}$$

二十一、列竖式计算（有进退位）：

$6 + 35 =$

$65 + 27 =$

$57 + 8 =$

$43 + 39 =$

$56 - 37 =$

$73 - 6 =$

$45 - 29 =$

$91 - 64 =$

二十二、计算填空：

$35 + 40 = () \quad 25 - 6 = () \quad 77 + 9 = () \quad 96 - 47 = ()$

$() - 10 = 12 \quad 36 - () = 6 \quad () + 15 = 17 \quad 12 + () = 57$

$41 - () = 2 \quad () - 61 = 22 \quad 15 + () = 19 \quad () + 16 = 83$

$() - 66 = 15 \quad 45 - () = 3 \quad () + 13 = 99 \quad 19 + () = 25$

$() + 1 = 33 \quad 16 + () = 37 \quad () - 82 = 1 \quad 33 - () = 16$

$14 + () = 54 \quad () + 5 = 23 \quad 18 - () = 9 \quad () - 81 = 11$

二十三、



下面哪些算式的得数比 50 小？
在 ☐ 里画“√”。

$54 - 9 \quad \square$

$42 + 8 \quad \square$

$74 - 40 \quad \square$

$59 - 4 \quad \square$

$42 + 6 \quad \square$

$36 + 30 \quad \square$

下面哪些算式的得数比 40 大，在 () 里画钩。

$32+9 (\quad)$

$42-7 (\quad)$

$60-19 (\quad)$

$23+9 (\quad)$

$47-2 (\quad)$

$6+34 (\quad)$

二十四、先画线再填得数：

$5-3= (\quad)$

$5-1= (\quad)$

$5-4= (\quad)$



二十五、看图写出两道加法算式，两道减法算式：



$\square + \square =$

$\square - \square =$

$\square + \square =$

$\square - \square =$

二十六、小小填空学问大，请你仔细填一填：

(1) 80 比 () 多 1，比 () 少 1。

(2) 和 99 相邻的两个数是 () 和 ()。

(3) 比 36 大比 40 小的数是 ()。

(4) 在 5、9、7、0、13、15 这六个数中 () 最大，() 最小，比 9 小的数有 ()，在 14 和 16 中间的数是 ()。

(5) 比 19 少 1 的数是 ()，比 18 多 1 的数是 ()。

(6) 比一比在最多后面画“√”，在最少的后面画“☆”。



()




()



()

问：□ 比 △ 多 () 个，△ 比 ○ 少 () 个。

二十七、花园中有 7 朵红色的小花，8 朵黄色的小花，一共有多少朵小花？

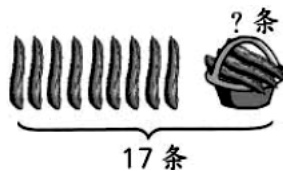
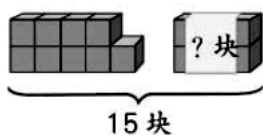


$7+8=$

$\square + 8 =$

$7 + \square =$

二十八、看图列式计算：




有 11 枝蜡烛，
吹灭了 9 枝，
还有 () 枝亮着。

$$\square \bigcirc \square = \square$$



树上原来有 13 只猴，
下来了 () 只，
树上还剩 () 只。



$$\square \bigcirc \square = \square$$




(1) 黑兔有 5 只，白兔有多少只？

(2) 白兔有 8 只，黑兔有多少只？

二十九、应用题：

1 小光有 5 个  大飞有 4 个  ，小光和大飞共有几个  ？

列式为： () = 个

答：小光和大飞共有 个 

2、公共汽车上原有乘客 20 人，到火车站又上来 8 人，到新华书店下去 5 人，现在汽车上有多少人？

答：现在汽车上有 人。

3、河里有 6 只鸭子，又游来 5 只，河里共有多少只鸭子？

4、草地上 3 只小鸡在做游戏，来了 2 只小鸡后，后来又来了 3 只小鸡，现在共有多少小鸡在做游戏？

5、小红有 10 个本子，用了 5 个本子做作业，小红还剩下多少个本子？

6、树上有 12 只小鸟，又飞来 5 只，不久有 4 只小鸟飞到草地上觅食去了，树上还有几只鸟？

一、填写相邻数。（12 分）

() 5 ()	() 8 ()
() 12 ()	() 13 ()
() 17 ()	() 18 ()

二、把下列分合式填写完整。（20 分）

20	()	14	()
^	^	^	^
3 ()	8 13	1 ()	9 4
()	20	()	17
^	^	^	^
13 6	12 ()	10 7	9 ()

三、混合运算。(10分)

$14-11+5=$

$11+3-4=$

$15+3-7=$

$9+11-11=$

四、元、角互换。(18分)

$2.5\text{元}=(\quad)\text{角}$

$3\text{角}=(\quad)\text{元}$

$5\text{元}=(\quad)\text{角}$

$3.5\text{角}=(\quad)\text{元}$

$1\text{元}=(\quad)\text{角}$

$45\text{角}=(\quad)\text{元}$

五、竖式计算。(10分)

$$\begin{array}{r} 22 \\ + 3 \\ \hline \end{array}$$

$$\begin{array}{r} 11 \\ + 14 \\ \hline \end{array}$$

$$\begin{array}{r} 15 \\ + 5 \\ \hline \end{array}$$

$$\begin{array}{r} 23 \\ + 6 \\ \hline \end{array}$$

$$\begin{array}{r} 17 \\ + 6 \\ \hline \end{array}$$

$$\begin{array}{r} 17 \\ + 6 \\ \hline \end{array}$$

六、看谁算得又快又对。(30分)

$12+5=(\quad)$

$15+4=(\quad)$

$10-8=(\quad)$

$(\quad)+11=13$

$(\quad)+8=12$

$(\quad)+15=15$

$(\quad)+17=19$

$(\quad)+11=20$

$(\quad)+6=11$

$20-18=(\quad)$

$19-(\quad)=10$

$16-(\quad)=10$

$13-(\quad)=13$

$14-(\quad)=7$

$19-(\quad)=12$

一、填空：(15分，每小题1分)

1、3452 里面有()个千，()个百，()个十，()个一。

2、四个百、两个十组成的数是()。

3、55、56、____ 58 ____ 61、62、____ 64、____

4、1、3、5、____ 9 ____ 13 ____ 19 ____

二、计算下列各题：(40分，每小题2分)

$4+15=$

$19-6=$

$13+2=$

$15-3=$

$4+13=$

$16-3=$

$15+3=$

$11+5=$

$17-5=$

$10-2=$

$3+4+2=$

$6+4-5=$

$8-4-3=$

$\square+6=17$

$19-\square=3$

$\square-5=12$

$18\square=4$

$2+\square=16$

$\square+4=17$

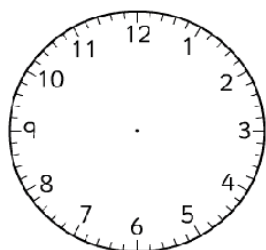
$\square-7=11$

三、用给出的 5、2、7 三个数字，列出四个算式（8 分）

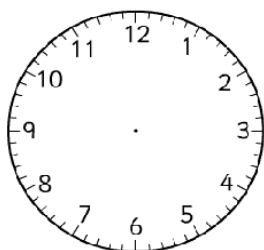
$$(\quad) + (\quad) = (\quad) \quad (\quad) + (\quad) = (\quad)$$

$$(\quad) - (\quad) = (\quad) \quad (\quad) - (\quad) = (\quad)$$

四、根据时间画出相应的时针和分针（2 分）


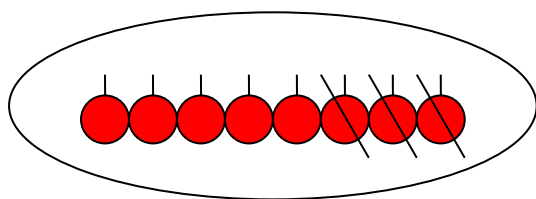


9:00



6:30

五、根据图示列算式：（15 分，每小题 5 分）



五、我会填（10 分，每题 2 分）

$$\begin{array}{c} 18 \\ \swarrow \quad \searrow \\ 5 \quad \square \end{array}$$

$$\begin{array}{c} 16 \\ \swarrow \quad \searrow \\ \square \quad 12 \end{array}$$

$$\begin{array}{c} \square \\ \swarrow \quad \searrow \\ 14 \quad 6 \end{array}$$

$$\begin{array}{c} 17 \\ \swarrow \quad \searrow \\ 13 \quad \square \end{array}$$

$$\begin{array}{c} \square \\ \swarrow \quad \searrow \\ 15 \quad 4 \end{array}$$

六、根据题意写出相应的算式（10 分，每题 5 分）

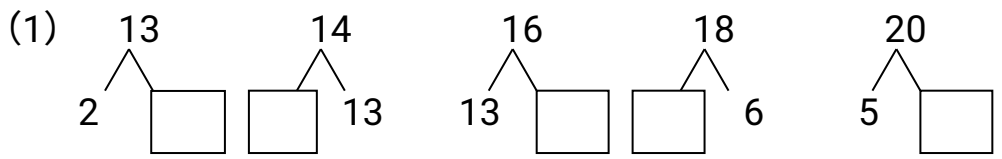
1、飞机场原来停了 8 架飞机，飞走了 6 架，现在飞机场还有几架飞机？

2、草地上有 6 只小鸡在捉虫子，一会儿又跑来了 3 只小鸡，一共有几只小鸡在捉虫？

一、我会算 (20%)

12+6=	10-2=	4+19=	19-8=	3+17=
19-3=	20-4=	4+12=	14+5=	14-4=
17+8=	16-3=	11+8=	12+0=	9+16=
17-6=	7+12=	13+8=	18+8=	5+15=


二、我会填 (80%) (15%)



(2) $4+1=5$ $5-2=3$ $5-2=\square$ (10%)

$4+1=\square$ $5-\square=3$ $\square-2=3$

$4+\square=5$



\square () 个 \triangle () 个 \bigcirc () 个 \square () 个

(4) 顺序填写 (30%)

1			4				8		
---	--	--	---	--	--	--	---	--	--

倒数填空

10		8			5			2	
----	--	---	--	--	---	--	--	---	--

(5) (15%) 1--10 里面：单数有 ()
双数有 ()

一、按顺序写出 0—9 的数。(10 分)

三、计算。(15 分)

$3+1=$

$2+2=$

$3+2=$

$1+4=$

$5-2=$

$4-1=$

$2+2=$

$2-1=$

$2+1+1=$

$5-1-0=$

$5-2-1=$

$3-1-1=$

$4+1-0=$

$5-2+1=$

$3+1-1=$

四、给正确答案后“√”，错误的“×”。(15 分)

$2+4=5$ ()

$2+1=3$ ()

$1+4=5$ ()

$3+1=4$ ()

$3-2=2$ ()

$2+3=5$ ()

$2+3=4$ ()

$4-1=3$ ()

$2-1=2$ ()

$1+3=5$ ()

$3+2=4$ ()

$3-2=2$ ()

$1+1=2$ ()

$2+2=4$ ()

$2-2=2$ ()

五、照例连线。(20 分)

$3+2$	③	$2+3$
$1+1$	⑤	$6-4$
$4-3$	②	$4-3$
$3+3$	①	$2+4$
$2+2$	⑥	$3+1$
$1+2$	④	$5-2$

$5-4$	⑥	$3-2$
$2+4$	②	$4+2$
$1+1$	⑤	$4-2$
$2+3$	④	$2+3$
$6-2$	③	$2+2$
$4-1$	①	$1+2$

六、看图写算式：(20 分)

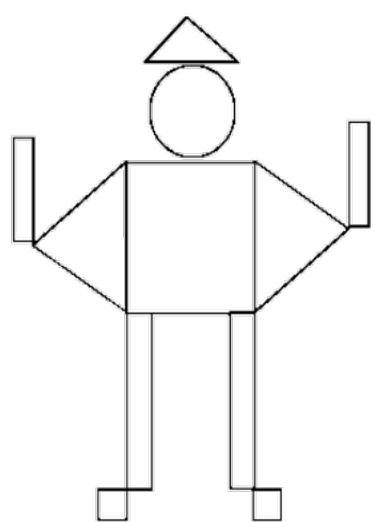


()+()=() ()+()=() ()+()=()

()+()=() ()+()=() ()-()=()



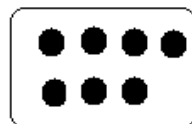
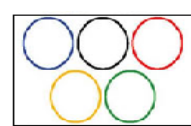

()-()=() ()-()=()

()-()=() ()-()=()





 有 () 个
有 () 个
有 () 个
有 () 个

你能把同样多的物体图和点子图用线连起来吗？




比一比。

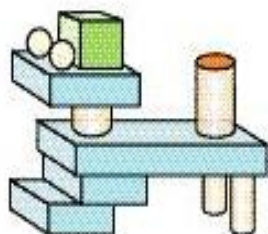
- 1、长的画√，短的画○。
- 2、高的画√，矮的画○。
- 3、在高的下面画√。



三、数一数，填一填。



	() 个
	() 个
	() 个
	() 个



	() 个
	() 个
	() 个
	() 个

四、填空。

9	8		5		1		4	
	1	3		2		6		7

10	9	2		4		6		8	
	1		3		5		7		9

五、在○里填“>”“<”或“=”

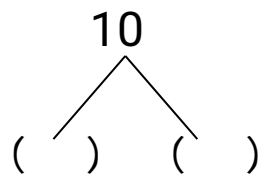
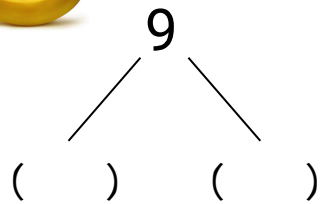
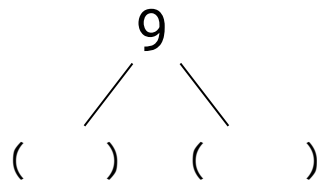
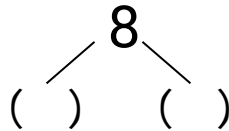
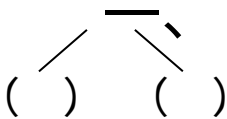
$7+6$ ○ $5+8$ $10-$ ○ $8-2$ $2+$ ○ $9+7$ ○ $3+3$ ○ 5
 $5+4$

一、按规律填数。(10 分)

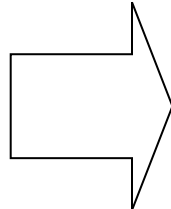
5		15			30		40		50
---	--	----	--	--	----	--	----	--	----

55		65			80		90		100
----	--	----	--	--	----	--	----	--	-----

二. 看图填写分



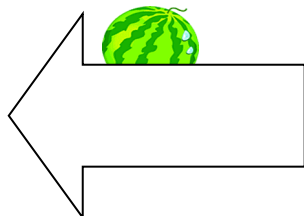
三. 看图填空。(20 分)



$$7 - 1 = (\quad)$$



$$7 - 6 = (\quad)$$



$$4 + 2 = (\quad)$$



$$2+4=(\quad)$$



$$6+4=(\quad)$$




$$4+6=(\quad)$$



$$9-3=(\quad)$$



$$9-6=(\quad)$$



$$8-2=(\quad)$$



$$8-6=(\quad)$$

四. 看图列式计算。(20分)



$$4-(\quad)$$



? 个



5 个

$$\square \bigcirc \square = \square$$




$$\square \bigcirc \square = \square$$



? 只

$$\square \bigcirc \square = \square$$


五. 看图列竖式。(10分)



$$7-\square=\square$$

竖式: 7

$$- \underline{3}$$



$$\begin{array}{r} \square \\ 9 - \square = \square \\ \text{竖式:} \quad 9 \\ - \quad \square \\ \hline \square \end{array}$$

六. 看图编应用题。(20 分)




图上有_____个

爆了_____个



再有_____个

$$\square - \square = \square$$



树上有_____只鸟。

飞来了_____只鸟。

$$\square + \square = \square$$

一共有_____只鸟。

一、我会算。

$$5+9= \quad 6+6= \quad 9-3= \quad 6+7= \quad 7+2= \quad 10-5=$$

$$8+4= \quad 8-3= \quad 10+9= \quad 3+2-1= \quad 9+5= \quad 5+5= \quad 9-9=$$

$$10+10= \quad 4+2= \quad 0+9= \quad 12-9= \quad 8+2-10= \quad 18-8= \quad 4+3+5=$$

二、按规律填空。

① 2、4、6、____、____、____、____、16 ② 20、19、18、____、____、____、____、

13

③ 5、10、15、__、

④ 10、7、4、__、

⑤ ○○ △△ __○△△○__ △__

⑥ □△□△__ △□__

三、在○里填写“>”“<”“=”。

3+2○ 7 6+5○ 11 9○ 14 1○3 18 ○-0 0 ○5+3

5-3

6+4○ 7+3 9-2○ 3+4 8+○ 5+5 7○ 4+1

四、根据每组给出的数字，列出四个不同的算式。

6 8 14

9 7 16

() + () = ()

() + () = ()

() + () = ()

() + () = ()

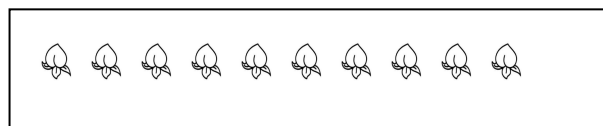


() - () = ()

() - () = ()

() - () = ()

() - () = ()

五、看图填空。



? (个)

□ ○ □ = □

□ ○ □ = □

六、根据题意答题。

小兔子有 11 棵白菜，送给外婆 8 棵，小兔子还剩多少棵白菜？

□ ○ □ = □ (棵)

答：小兔子还剩下□ 棵白菜。